



باسمه تعالی

جمهوری اسلامی ایران

وزارت آموزش و پرورش



سازمان ملی پرورش استعداد های درخشان

مبارزه علمی برای جوانان، زنده کردن روح جست و جو و کشف واقعیت هاست. «امام خمینی (ره)»

دفترچه سؤالات مرحله اول سال ۱۴۰۲

بیستمین دوره المپیاد نجوم و اختر فیزیک

کد دفترچه: ۱

مدت آزمون	تعداد سؤالات	
	۲۴۰ دقیقه	پاسخ کوتاه
۸ سوال		۳۰ سوال

نام خانوادگی: شماره صندلی:

استفاده از هر نوع ماشین حساب مجاز است.

توضیحات مهم

۱- کد دفترچه سؤالات شما یک است. این کد را در محل مربوط روی پاسخ نامه با مداد پر کنید، در غیر این صورت پاسخ نامه شما تصحیح نخواهد شد.

۲- بلافاصله پس از آغاز آزمون، تعداد سؤالات داخل دفترچه و همه برگه های دفترچه سؤالات را بررسی نمایید، در صورت هر گونه نقصی در دفترچه، در اسرع وقت مسؤول جلسه را مطلع کنید.

۳- یک برگ پاسخ نامه در اختیار شما قرار گرفته که مشخصات شما بر روی آن نوشته شده است، در صورت نادرست بودن آن، در اسرع وقت مسؤول جلسه را مطلع کنید. ضمناً مشخصات خواسته شده در پایین پاسخ نامه را با مداد مشکی بنویسید.

۴- برگه پاسخ نامه را دستگاه تصحیح می کند، پس آن را تا نکند و تمیز نگه دارید و به علاوه، پاسخ هر پرسش را با مداد مشکی نرم در محل مربوط علامت بزنید. لطفاً خانه مورد نظر را کاملاً سیاه کنید.

۵- دفترچه باید همراه پاسخ نامه تحویل داده شود.

۶- پاسخ درست به هر سوال ۳ نمره مثبت و پاسخ نادرست ۱ نمره منفی دارد. در مسأله های کوتاه هر پاسخ درست ۶ نمره مثبت و پاسخ نادرست نمره منفی ندارد.

۷- شرکت کنندگان در دوره تابستانی از بین دانش آموزان پایه دهم و یازدهم انتخاب می شوند.

کلیه حقوق این سؤالات برای باشگاه دانش پژوهان جوان محفوظ است.

آدرس سایت اینترنتی: ysc.medu.ir

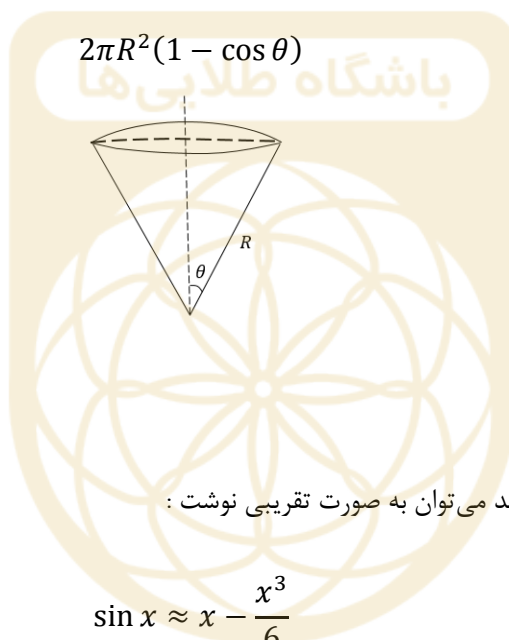
جدول ثوابت

مقدار	کمیت	نماد
$6.67 \times 10^{-11} \frac{m^3}{s^2 kg}$	ثابت جهانی گرانش	G
$6.63 \times 10^{-34} Js$	ثابت پلانک	h
$3 \times 10^8 \frac{m}{s}$	سرعت نور	c
$5.67 \times 10^{-8} \frac{W}{m^2 K^4}$	ثابت استفان - بولتزمن	σ
$1.67 \times 10^{-27} kg$	جرم پروتون	m_p
$9.11 \times 10^{-31} kg$	جرم الکترون	m_e
$1.6 \times 10^{-19} J$	الکترون ولت	eV
$3.09 \times 10^{16} m$	پارسک	pc
$1.5 \times 10^{11} m$	واحد نجومی	AU
$1.99 \times 10^{30} kg$	جرم خورشید	M_{Sun}
$6.96 \times 10^8 m$	شعاع خورشید	R_{Sun}
$3.85 \times 10^{26} W$	درخشندگی خورشید	L_{Sun}
$5777 K$	دمای مؤثر سطح خورشید	$T_{eff Sun}$
4.83	قدر مطلق خورشید	
-26.7	قدر ظاهری خورشید	
-0.14	تصحیح بولومتریک خورشید	BC_{Sun}
$3.84 \times 10^8 m$	نیم قطر بزرگ مدار ماه	a_{Moon}
1737 km	شعاع ماه	R_{Moon}
0.055	خروج از مرکز مدار ماه	e_{Moon}
-12.7	قدر ظاهری ماه کامل	
5.2 AU	نیم قطر بزرگ مدار مشتری	$a_{Jupiter}$
69911 km	شعاع مشتری	$R_{Jupiter}$
1.5 AU	نیم قطر بزرگ مدار مریخ	a_{Mars}
$5.97 \times 10^{24} kg$	جرم زمین	M_{Earth}
6371 km	شعاع زمین	R_{Earth}
30 °C	دمای سطح زمین	
1 bar	فشار جو در سطح زمین	
26000 yr	دوره تناوب حرکت تقدیمی زمین	
23.5°	انحراف محور چرخش زمین نسبت به خط عمود بر دایره البروج	ε
480 °C	دمای سطح زهره	
92 bar	فشار جو در سطح زهره	

$72 \frac{km}{s.Mpc}$	ثابت هابل	H_0
$2.7 K$	دمای تابش پس زمینه کیهان	
$1.2 \times 10^{-10} m$	قطر اتم هیدروژن	
$3.6 \times 10^{-10} m$	قطر مولکول نیتروژن	
$3.3 \times 10^{-10} m$	قطر مولکول کربن دی اکسید	
1089	قرمز گرایی زمان واجفتیدگی	z_{dec}
$13.6 eV$	انرژی یونش اتم هیدروژن	
$1875 nm$	طول موج خط $Pa - \alpha$ اتم هیدروژن	

$6 mm \approx$ قطر مردمک چشم انسان

*** مساحت عرق چین با شعاع زاویه ای θ :



*** اگر $x \ll 1$ باشد می توان به صورت تقریبی نوشت :


$$\sin x \approx x - \frac{x^3}{6}$$

$$\cos x \approx 1 - \frac{x^2}{2}$$

۱- تلسکوپ فضایی گایا که در حال سنجش موقعیت ستاره‌ها است دارای قدرت تفکیک ۲۰ میکروثانیه قوسی است.

کدام از جملات زیر نادرست است؟

- ۱) با این تلسکوپ از روی زمین می‌توان سر و ته یک خودکار را در کره‌ی ماه تفکیک کرد.
 - ۲) با این تلسکوپ از روی زمین می‌توان سر و ته یک اتوبوس در سیاره‌ی مریخ را در نزدیک‌ترین فاصله نسبت به زمین تفکیک کرد.
 - ۳) با این تلسکوپ می‌توان ضخامت (قطر) یک تار مو را که در شهر زاهدان گذاشته شده است و از شهر تبریز مشاهده می‌شود تفکیک کرد.
 - ۴) با این تلسکوپ از روی زمین می‌توان سر و ته یک زمین چمن فوتبال را روی سیاره مشتری در نزدیک‌ترین فاصله نسبت به زمین تفکیک کرد.
- ۲- بر اساس دسته‌بندی هابل، کهکشان M74 که تصویر آن در زیر آمده است، در کدام‌یک از دسته‌های زیر قرار می‌گیرد؟



۱) Sa ۲) SBa ۳) Sc ۴) E1

باشگاه طلایی‌ها

۳- شخصی از تهران (عرض جغرافیایی ۳۵,۵ درجه شمالی) شروع به حرکت می‌کند و می‌خواهد بدون اینکه عرض

جغرافیایی خود را تغییر بدهد ۱۰۰۰ کیلومتر حرکت کند. در انتها طول جغرافیایی او چقدر تغییر کرده است؟

۱) ۹ درجه ۲) ۱۱ درجه ۳) ۱۵ درجه ۴) ۱۹ درجه

۴- با استفاده از تلسکوپ و CCD می‌خواهیم از ستاره‌های خوشه‌ستاره‌ای باز عکس برداری کنیم. دو ستاره خورشیدگون

A و B از این خوشه را در نظر می‌گیریم. مدت زمان نوردهی برای عکس برداری از A را دو برابر مدت زمان نوردهی

ستاره B در نظر می‌گیریم. وقتی عکس این دو ستاره ثبت شد، اختلاف قدری که به نظر می‌رسد این دو ستاره از هم

دارند به کدام عدد نزدیک‌تر است؟

۱) ۲ ۲) ۰,۳ ۳) ۰,۷۵ ۴) اطلاعات مسأله کافی نیست.

۵- وقتی سیاره‌ای از مقابل ستاره‌ی میزبان عبور می‌کند ممکن است اختفا رخ دهد که نتیجه‌ی آن تغییر اندکی در قدر

ظاهری ستاره است. از این روش برای کشف سیارات فراخورشیدی استفاده می‌شود. اگر دقت اندازه‌گیری قدر ظاهری

یک سیستم قدرسنجی برابر با 0.0001 باشد، حداقل شعاع سیاره‌ای که با این روش می‌توان برای ستاره میزبان

خورشیدگون آشکارسازی کرد به کدام گزینه نزدیک‌تر است؟

۱) شعاع زمین ۲) شعاع مشتری ۳) ۱۰۰ برابر شعاع زمین ۴) ۱۰ برابر شعاع مشتری

۶- باستان شناسان در رمزگشایی یک لوح بسیار کهن، با توصیف ستاره‌ای مواجه شده‌اند که در شهر سومر (بغداد کنونی،

عرض جغرافیایی ۳۳,۳ شمالی) هیچگاه غروب نمی‌کرده است و تنها بر لبه‌ی افق مماس می‌شده است. اگر این ستاره

همان ستاره‌ای باشد که ما به عنوان ستاره قطبی می‌شناسیم، این لوح حدوداً مربوط به چه دورانی است؟

۱) ۱۰۰۰ سال قبل از میلاد مسیح ۲) ۳۰۰۰ سال قبل از میلاد مسیح

۳) ۵۰۰۰ سال قبل از میلاد مسیح ۴) ۷۰۰۰ سال قبل از میلاد مسیح

۷- هنگام رصد خورشید با تلسکوپ حتماً باید از فیلتر جذب کننده نور استفاده کنیم تا چشم دچار آسیب نشود. با تلسکوپی ۵ اینچی فیلتر با چه کسری از عبور نور را باید در دهانه تلسکوپ بگذاریم که پشت چشمی تلسکوپ، روشنایی خورشید را همانند ماه کامل در رصد غیر مسلح ببینیم؟

(۱) 10^{-2} (۲) 10^{-4} (۳) 10^{-6} (۴) 10^{-8}

۸- جرم سیاهچاله‌ی مرکزی کهکشان ۴ میلیون برابر جرم خورشید است. فرض کنید تابع توزیع چگالی جرمی کهکشان در اطراف این سیاهچاله با رابطه‌ی زیر داده شود:

$$\rho = \frac{\alpha}{4\pi r^2}$$

اگر سرعت چرخش یک ستاره در مداری دایره‌ای به شعاع ۲ پارسک از مرکز کهکشان ۱۰۰ کیلومتر بر ثانیه باشد، مقدار عددی α (برحسب جرم خورشید بر پارسک) به کدام گزینه نزدیک‌تر است؟

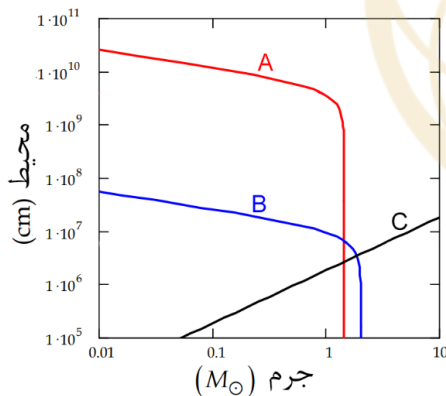
(۱) ۲۰۰۰۰۰ (۲) ۳۰۰۰۰۰ (۳) ۱۰۰۰۰ (۴) ۱۰۰۰

۹- دنباله داری به دور خورشید در مداری به خروج از مرکز ۰.۵ حرکت می‌کند. از لحظه حضیض این دنباله دار تا زمانی که برای اولین بار، راستای حرکت دنباله‌دار و امتداد دنباله‌گازی‌اش زاویه ۶۰ درجه بسازند، چه زمانی می‌گذرد؟

(۱) ۰.۰۷ دوره تناوب دنباله دار (۲) ۰.۱۷ دوره تناوب دنباله دار
(۳) ۰.۲۷ دوره تناوب دنباله‌دار (۴) ۰.۳۷ دوره تناوب دنباله دار

۱۰- شکل زیر نمودار محیط بر حسب جرم سه نوع از بقایای ستاره‌ای است که با حروف A و B و C روی شکل مشخص شده است. اگر سیاهچاله را با BH، ستاره نوترونی را با NS و کوتوله سفید را با WD نشان دهیم، در کدام گزینه حروف A و B و C درست به اجرام نسبت داده شده‌اند؟

(۱) A=NS, B=BH, C=WD
(۲) A=BH, B=NS, C=WD
(۳) A=WD, B=BH, C=NS
(۴) A=WD, B=NS, C=BH



۱۱- انرژی لایه‌های اتم هیدروژن به صورت $E_n = E_1/n^2$ است. دو خط از خطوط طیفی مهم در اختربیزیک خط طیفی لیمان آلفا (گذار از لایه دوم به لایه اول) و دیگری خط طیفی اچ آلفا (گذار از لایه سوم به لایه دوم) است. طول موج‌های متناظر آنها بر حسب نانومتر به ترتیب عبارتند از:

(۱) ۱۲۱.۶ و ۶۵۶.۴ (۲) ۱۲۱۶ و ۶۵۶۴ (۳) ۱۰۲.۶ و ۴۸۶.۰ (۴) ۱۰۲۶ و ۴۸۶۰

۱۲- ستاره‌ای دارای سرعت فضایی ثابت است. با فرض این که در حال حاضر اختلاف منظر این ستاره $\pi = 0.2''$ و سرعت خاصه آن $\mu = 2.5 \frac{\text{arcsec}}{\text{year}}$ باشد، مسافت طی شده توسط ستاره را پس از گذشت 1000 سال محاسبه کنید. داده‌های طیفی، طول موج $\lambda = 1870 \text{ nm}$ را برای خط $P\alpha - \alpha$ این ستاره نشان می‌دهند.

(۱) 80 pc (۲) 8 pc (۳) 0.8 pc (۴) 0.08 pc

صفحه ۴ از ۱۰

۱۳- جو مریخ رقیقتر از ۵٪ جو زمین است. بنابراین می‌توانیم فرض کنیم که اثر گلخانه‌ای روی سیاره مریخ تقریباً قابل صرف نظر کردن است. آلبدوی مریخ ۱۷٪ است. دمای سطح مریخ چند درجه سانتیگراد خواهد بود؟

- (۱) ۵۵- (۲) ۴۵- (۳) ۱۳۰- (۴) ۳۱

۱۴- کدام یک از گزینه‌های زیر در مورد تصویر زیر نادرست است؟

- (۱) صورت فلکی خرگوش و پرنورترین ستاره‌ی آسمان در تصویر قابل مشاهده هستند.
 (۲) تصویر شامل یک سحابی است که در آسمانی تاریک می‌توان آن را با چشم غیرمسلح رصد کرد.
 (۳) بیشتر صور فلکی این تصویر امشب (۹ بهمن ۱۴۰۲) در اکثر شهرهای ایران قابل رؤیت نیستند.
 (۴) ستاره‌ی سهیل و بخشی از استوای سماوی در تصویر قرار دارند.



۱۵- انرژی تابشی ناشی از فوتون‌های تابش پس‌زمینه‌ی کیهانی (CMB) در زمان واجفتیدگی، در حجمی معادل با حجم یک کوله پشتی مدرسه‌ای معمولی (بر حسب ژول) به کدام گزینه نزدیکتر است؟

- (۱) 10^{-9} (۲) 10^{-6} (۳) 10^{-3} (۴) 1

۱۶- جسمی حول جرم M در یک مدار بیضوی با نیم قطر بزرگ a در حال گردش است. نسبت سرعت حضيض به سرعت اوج در این مدار برابر ۴ است. جسم دیگری با همان نیم قطر a و با خروج از مرکز صفر به دور جرم M در گردش است. مساحت جاروب شده توسط جسم اول در طول مدت یک سوم دوره تناوب جسم اول نسبت به مساحت جاروب شده توسط جسم دوم در همان فاصله زمانی چقدر است؟

- (۱) ۰,۸ (۲) ۰,۷ (۳) ۰,۶ (۴) ۰,۳۳

۱۷- نسبت جرم به درخشندگی (M/L) اجرام زیر به ترتیب بزرگی در کدام گزینه به طور صحیح آمده است؟

WD: کوتوله ی سفید به جرم خورشید و دمای سطحی ۲۰۰۰۰ کلوین

SS: منظومه ی شمسی

GS: ستاره ای به جرم خورشید در شاخه ی غول قرمز

G: کهکشانی با درخشندگی ۲۰ میلیارد برابر خورشید و سرعت دورانی ۲۰۰ کیلومتر بر ثانیه در فاصله ۱۰ کیلوپارسک

از مرکز کهکشان

$$G > GS > SS > WD \quad (۲)$$

$$WD > SS > G > GS \quad (۱)$$

$$WD > G > SS > GS \quad (۴)$$

$$G > WD > GS > SS \quad (۳)$$

۱۸- ناظری در سنگاپور (عرض جغرافیایی ۱,۴ درجه شمالی و طول جغرافیایی ۱۰۴ درجه شرقی) در ساعت ۰۰:۳۰ به وقت سنگاپور در حال رصد ستاره ای با میل ۴۸ درجه در ارتفاع ۴۰ درجه در نیمه غربی آسمان می باشد که متوجه پدیده ای خاص می شود. در این لحظه او به همکار خود در رصدخانه مراغه (عرض جغرافیایی ۳۷ درجه شمالی و طول جغرافیایی ۴۶ درجه شرقی) پیامی ارسال می کند تا او را مطلع کند. همکار او در ساعت ۵ صبح به وقت ایران پیام را مشاهده می کند. او برای رصد ستاره در چه ارتفاعی باید به دنبال آن بگردد؟

منطقه زمانی تهران: GMT+3.5 و سنگاپور: GMT+8

(۱) ناظر در مراغه در ساعت ۵ نمی تواند ستاره را ببیند. (۲) ۲۲ درجه (۳) ۶۱ درجه (۴) ۷۸ درجه

۱۹- بررسی ستاره در فیلترهای مختلف، کمک شایانی در تحلیل اختریفیزیکی آن به ما می کند. ستاره ای با اختلاف منظر $\pi = 0.1''$ رصد کرده ایم و می دانیم که عمده تابش آن در باند مرئی و آبی می باشد. اگر قدر این ستاره در باند مرئی و آبی به ترتیب $V = 1.2$ و $B = 1.5$ ، درخشندگی این ستاره چند برابر درخشندگی خورشید است؟

(۱) ۴۵ (۲) ۳۵ (۳) ۶۵ (۴) ۵۵

۲۰- پرتابه ای را از تهران (عرض ۳۵,۵ درجه شمالی و طول ۵۱,۳ شرقی) با سرعت $v = 10 \frac{km}{s}$ به سمت نقطه ای به مختصات $A = 30^\circ$ در آسمان تهران پرتاب می کنیم. یک بار فاصله بین نقطه پرتاب و نقطه برخورد به زمین را از روی سطح زمین و بار دیگر از کوتاه ترین فاصله بین نقطه پرتاب و برخورد به دست می آوریم. اختلاف بین دو عدد به دست آمده به کدام گزینه نزدیک است؟ از چرخش زمین به دور خود صرف نظر کنید.

(۱) ۲۹۰۰ km (۲) ۴۵۰۰ km (۳) ۱۹۰۰۰ km (۴) ۱۰۰۰ km

۲۱- ناظری ستاره سروش (عیوق-Capella) با میل 46° و بعد $5^h 17^m$ را در ارتفاع 30° در سمت 135° غربی مشاهده کرده است. اگر این رصد در ساعت ۱ بامداد به وقت محلی باشد، تاریخ رصد را محاسبه کنید.

(۱) اطلاعات مسئله کافی نیست (۲) ۵ اسفند (۳) ۳ اردیبهشت (۴) ۵ بهمن

۲۲- لامپ کروی شکلی داریم که $100 W$ از توان آن به صورت نور مرئی ساطع می شود. قسمتی از لامپ به شکل یک عرقچین کدر است. فرض کنید قسمت کدر تمام انرژی دریافتی را جذب می کند. اگر شعاع کره و شعاع مقطع دایروی عرقچین به ترتیب $5 cm$ ، $3 cm$ باشد، توان ساطع شده از لامپ به شکل نور مرئی به محیط اطراف را به دست آورید.

(۱) $10 W$ (۲) $20 W$ (۳) $90 W$ (۴) $80 W$

۲۳- یک عدد چشمی و سه عدد تلسکوپ با نسبت کانونی های برابر در اختیار داریم. این چشمی را می توانیم روی هر کدام از سه تلسکوپ بگذاریم. در شب رصدی در نزدیکی کوهی هستیم که دو تیر چراغ برق در دامنه آن قرار دارند. با تلسکوپ ۱ نمی توان دو چراغ را از همدیگر تشخیص داد. با تلسکوپ ۲ نمی توان دو چراغ را کاملاً با هم در دایره میدان

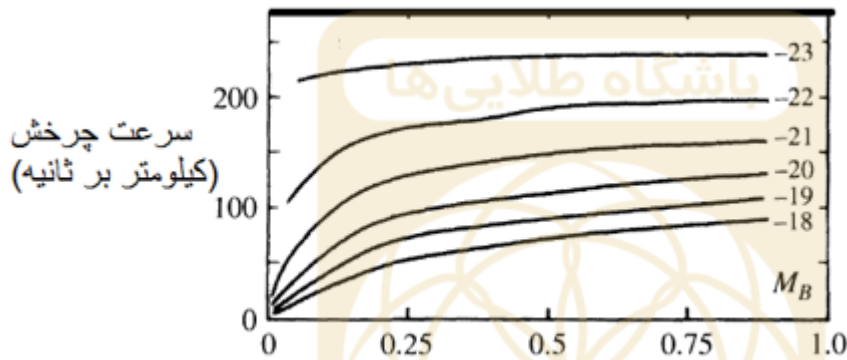
دید پشت تلسکوپ دید. با تلسکوپ ۳ چراغ‌ها پرنورتر از تلسکوپ ۲ دیده می‌شوند. با تلسکوپ ۳ چراغ‌ها کوچکتر از تلسکوپ ۱ دیده می‌شوند. کدام یک از جملات زیر درست است؟

- (۱) با تلسکوپ ۲ چراغ‌ها بزرگتر از تلسکوپ ۱ دیده می‌شوند.
- (۲) با تلسکوپ ۳ می‌توان دو چراغ را کاملاً با هم در یک دایره میدان دید پشت تلسکوپ دید.
- (۳) با تلسکوپ ۳ چراغ‌ها پرنورتر از تلسکوپ ۱ دیده می‌شوند.
- (۴) با تلسکوپ ۳ نمی‌توان دو چراغ را از همدیگر تشخیص داد.

۲۴- رابطه ی تالی - فیشر بیانگر ارتباط بین بیشنیهی سرعت چرخش کهکشانی (V_{max}) و قدر مطلق کهکشان (M) است. منحنی سرعت دورانی تعدادی کهکشان با قدر مطلق‌های مختلف در باند آبی (M_B) که مقدار آن در کنار منحنی‌ها آمده است) بر حسب فاصله‌ی شعاعی از مرکز کهکشان (که به یک مقیاس شده است) برای رده‌ای از کهکشان‌ها در شکل زیر داده شده است. کدام گزینه بیان دقیقتری از رابطه‌ی تالی-فیشر در این گروه از کهکشان‌ها است؟

$$M_B = -4.5 \log(V_{max}) + 2 \quad (۲) \quad M_B = -10.2 \log(V_{max}) + 2 \quad (۱)$$

$$M_B = -6.1 \log(V_{max}) + 6 \quad (۴) \quad M_B = -14.1 \log(V_{max}) + 6 \quad (۳)$$



۲۵- خوشه‌ای کروی متشکل از 10^6 ستاره خورشیدگون که در حالت تعادل قرار دارد را در نظر بگیرید. با استفاده ستاره‌های متغیر این خوشه فاصله آن را $d = 120 pc$ تخمین زده‌ایم. چنانچه قطر زاویه‌ای خوشه برابر $\theta = 0.1''$ باشد، سرعت یک ستاره در خوشه را تخمین بزنید.

$$1.0 \frac{km}{s} \quad (۴) \quad 5.0 \frac{km}{s} \quad (۳) \quad 10000 \frac{km}{s} \quad (۲) \quad 50000 \frac{km}{s} \quad (۱)$$

۲۶- تباین چگالی به صورت $\Delta = \frac{\rho - \rho_{cr}}{\rho_{cr}}$ تعریف می‌شود که در تشکیل ساختارهای عالم پارامتر مهمی است. در این فرمول ρ مقدار چگالی متوسط ناحیه مورد بررسی و ρ_{cr} چگالی بحرانی کیهان است. مقدار تباین چگالی برای کهکشان راه شیری چقدر است؟

کهکشان راه‌شیری را استوانه‌ای به ارتفاع $300 pc$ و شعاع $25 kpc$ فرض کنید و کهکشان را شامل 10^{11} ستاره

$$\rho_{cr} = 10^{-27} \frac{kg}{m^3} \text{ در نظر بگیرید.}$$

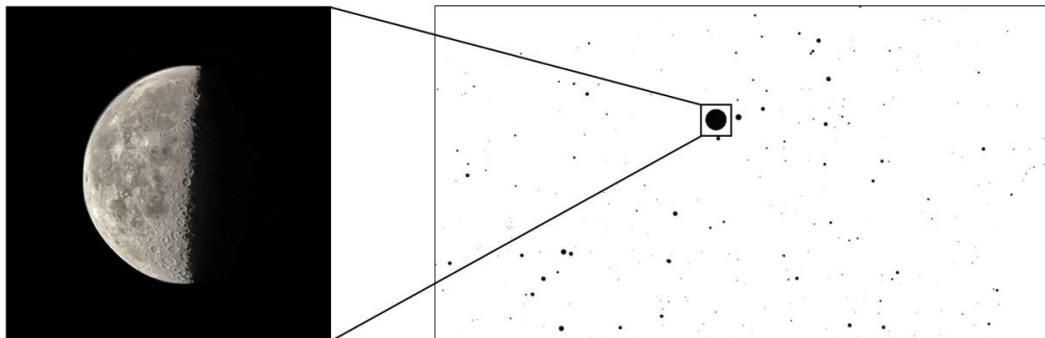
$$10^9 \quad (۴) \quad 10^8 \quad (۳) \quad 10^7 \quad (۲) \quad 10^6 \quad (۱)$$

۲۷- فردی می‌خواهد با یک طناب به طول L نشان دهد که زمین کروی است. او با این طناب دایره‌ای به شعاع L روی سطح زمین رسم می‌کند و محیط دایره را اندازه می‌گیرد. حداقل طول طناب تقریباً چه قدر باید باشد که محیط دایره رسم شده روی کره زمین نسبت به دایره‌ای که با همان طناب روی سطح تخت ترسیم می‌شود یک کیلومتر تفاوت داشته باشد؟

$$30000 \text{ km} \quad (۴) \quad 9000 \text{ km} \quad (۳) \quad 300 \text{ km} \quad (۲) \quad 900 \text{ km} \quad (۱)$$

۲۸- دو تصویر زیر با دو بزرگنمایی مختلف به هدف عکاسی از ماه ثبت شده‌اند. تاریخ عکس‌برداری کدام یک از گزینه‌های زیر می‌تواند باشد؟

- (۱) ۵ بهمن ۱۳۸۵ (۲) ۲۴ شهریور ۱۳۸۹ (۳) ۷ آبان ۱۴۰۰ (۴) ۱۵ اسفند ۱۳۹۷



۲۹- ناظری ستاره ای با میل ۴۶ درجه را در سمت ۴۵ درجه شرقی و ارتفاع ۶۰ درجه مشاهده کرده است. عرض جغرافیایی ناظر را بیابید.

- (۱) ۲۸ درجه شمالی (۲) ۱۸ درجه شمالی (۳) ۲۲ درجه جنوبی (۴) ۳۴ درجه جنوبی

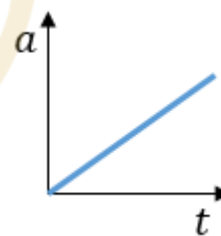
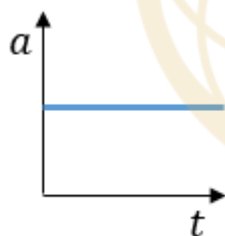
۳۰- بر اساس معادله فریدمن تغییرات فاکتور مقیاس عالم بر حسب چگالی، برای یک عالم تخت به صورت

$$\rho = \rho_0 a^{-2} \quad H = \frac{da}{dt} = \sqrt{\frac{8\pi G\rho}{3}}$$

با فاکتور مقیاس مرتبط باشد، انتظار داریم فاکتور مقیاس چگونه در طول زمان تغییر کند؟

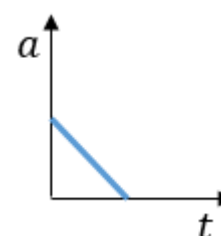
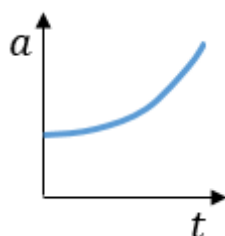
(۲)

(۱)



(۴)

(۳)



مسأله‌های کوتاه

پیش از شروع به حل مسأله‌های کوتاه توضیحات زیر را با دقت بخوانید. در این مسأله‌ها باید پاسخ را بر حسب واحدهای مورد نظر (متر، کیلوپارسک، ثانیه قوسی و غیره) که در صورت مسأله خواسته شده، به دست آورید. پاسخ معمولاً عددی یک رقمی یا دو رقمی صحیح است. سپس خانه‌های مربوط به رقم‌های این عدد را در پاسخنامه سیاه کنید. توجه داشته باشید که رقم یکان عدد در ستون یکان و رقم دهگان در ستون دهگان علامت زده شود. اگر پاسخ شما عدد صحیح نشد جواب را به نزدیک‌ترین عدد صحیح گرد کنید و در پاسخنامه علامت بزنید. اگر پاسخ عدد یک رقمی شد، عدد را در رقم یکان علامت بزنید و رقم دهگان را صفر بزنید.

مثال فرض کنید سرعت دنباله‌دار بر حسب کیلومتر بر ثانیه خواسته شده است و شما مقدار آن را $11.2 \frac{km}{s}$ محاسبه کرده‌اید. ابتدا باید این عدد را به نزدیک‌ترین عدد صحیح گرد کنید تا 11 به دست آید. سپس مطابق شکل مقابل، آن را در پاسخنامه وارد کنید. ثوابت فیزیکی و نجومی در ابتدای برگه سوالات داده شده‌اند. در

یکان	دهگان
0	0
●	●
2	2
3	3
4	4
5	5
6	6
7	7
8	8
9	9

حل مسأله‌ها فقط از این ثوابت استفاده کنید. اعداد باید تنها یک بار و آن هم در انتهای حل هر مسأله گرد شوند. اگر مرتبه بزرگی جواب از شما خواسته شده بود، پس از محاسبه‌ی پاسخ، ابتدا آن را به شکل نماد علمی یعنی $a \times 10^b$ درآورید. اگر $a \leq 5$ بود مرتبه بزرگی می‌شود b و اگر $a > 5$ بود مرتبه بزرگی می‌شود $b + 1$. مثلاً یک واحد نجومی یعنی 1.5×10^{11} را در نظر بگیرید. مرتبه بزرگی این عدد 11 است.

قاعده گرد کردن به این گونه است که اگر نتیجه به دست آمده از حل مسأله در مبنای ده به شکل $A = XX.XXXXX$ باشد، ابتدا اختلاف A با همان عدد وقتی که رقم‌های بعد از اعشار آن صفر شده یعنی $\Delta = XX.XXXXX - XX.00000$ حساب می‌شود. اگر Δ کوچکتر یا مساوی 0.5 باشد $A = XX$ و اگر Δ بزرگتر از 0.5 باشد $A = XX + 1$ در نظر گرفته خواهد شد.

۱- در نزدیکی سطح زمین طول پویش آزاد یک مولکول از جو چند برابر طول پویش آزاد یک مولکول از جو در نزدیکی سطح زهره است؟

۲- یک کوازار با قدر ظاهری ۱۷ و انتقال به سرخ ۰,۰۵ را رصد کرده‌ایم. کمترین جرمی که می‌توانیم برای این کوازار تصور کنیم تقسیم بر جرم خورشید برابر با عدد A است. مرتبه بزرگی عدد A چقدر است؟

۳- سه سیاره با دوره تناوب‌های T و $3T$ و $4T$ در یک صفحه و یک جهت حول ستاره‌ای می‌گردند. در زمانی خاص هر سه سیاره از دید ستاره، در یک راستا قرار می‌گیرند. این اتفاق در زمان nT بعد برای اولین بار تکرار می‌شود. n را بیابید.

۴- رصدگری در استوای زمین علاقه به عکاسی از ماه کامل در ماه‌های مختلف سال دارد. این رصدگر برای این که عکس بهتری بتواند بگیرد که در آن آلودگی نوری کمتر معلوم باشد، صبر می‌کند تا در شبی که ماه کامل است، ماه به سرسویش برسد و سپس عکس را بگیرد. نسبت بزرگترین قطر ماه به کوچکترین قطر ماه در عکس‌های این رصدگر چند درصد از یک بزرگتر است؟ از میل مداری ماه به دور زمین و از انحراف محور چرخش زمین نسبت به راستای عمود بر دایره البروج چشم بیوشید.

۵- اگر فاصله ماه تا زمین $\frac{1}{30}$ فاصله فعلی‌اش از زمین باشد، بیشترین میل مداری ماه نسبت به دایره البروج را بر حسب درجه به نحوی به دست آورید که در هر ماه از سال، حتماً پدیده ماه گرفتگی داشته باشیم.

۶- فرض کنید دیسکی یکنواخت با جرم کم در حال گردش به دور خورشید از نزدیکی خورشید تا شعاع $r = 6AU$ می‌باشد. اگر به طور ناگهانی دیسک به صورتی منفجر شود که تمام ذرات آن پس از انفجار سرعت $v = 20 \frac{km}{s}$ داشته باشند، چند درصد ذرات این دیسک برای همیشه از منظومه شمسی خارج می‌شوند؟

۷- نسبت شار دریافتی از ماه کامل به شار دریافتی از ماه شب هفتم ماه قمری را A می‌نامیم. ماه قمری را ۲۹ روزه در نظر بگیرید. $10 \times A$ چه قدر است؟

۸- در طی یک کسوف جزئی، در بیشینه‌ی گرفت، فاصله‌ی مراکز ماه و خورشید از دید ناظر زمینی به ۱۵ دقیقه‌ی قوسی می‌رسد. قطر زاویه‌ای خورشید و ماه را برابر و به اندازه‌ی ۳۰ دقیقه‌ی قوسی در نظر می‌گیریم. در این حالت بیشینه، ماه چند درصد قرص خورشید را پوشانده است؟



باسمه تعالی

جمهوری اسلامی ایران

وزارت آموزش و پرورش



سازمان ملی پرورش استعداد های دانشمندان

مبارزه علمی برای جوانان، زنده کردن روح جست و جو و کشف واقعیت هاست. «نام نخبین (د)»

پاسخ نامه ی تشریحی

باشگاه طلایی ها
آزمون مرحله اول

بیستمین دوره المپیاد نجوم و اخترفیزیک

کمیته ی علمی المپیاد نجوم و اخترفیزیک

بهمن ماه ۱۴۰۲

از اساتید و دانش پژوهان گرامی دعوت می شود تا نظرات و پیشنهادات خود را به نشانی الکترونیکی کمیته ی المپیاد نجوم ایران ارسال نمایند.

IRAstronomyCommittee@gmail.com



لطفاً در این کادر و حاشیه پاسخنامه چیزی ننویسید.

مطابق توضیحات دفترچه تکمیل شود.

کد دفترچه: () ()



غلط:

صحیح: ●

لطفاً گزینه را به صورت کامل و فقط با مداد مشکی نرم پر کنید.

۱	<input type="radio"/>	<input type="radio"/>	<input checked="" type="radio"/>	<input type="radio"/>	۲۱	<input type="radio"/>	<input type="radio"/>	<input type="radio"/>	<input checked="" type="radio"/>	۴۱	<input type="radio"/>	<input type="radio"/>	<input type="radio"/>	<input type="radio"/>	۶۱	<input type="radio"/>	<input type="radio"/>	<input type="radio"/>	<input type="radio"/>
۲	<input type="radio"/>	<input type="radio"/>	<input type="radio"/>	<input checked="" type="radio"/>	۲۲	<input type="radio"/>	<input type="radio"/>	<input checked="" type="radio"/>	<input type="radio"/>	۴۲	<input type="radio"/>	<input type="radio"/>	<input type="radio"/>	<input type="radio"/>	۶۲	<input type="radio"/>	<input type="radio"/>	<input type="radio"/>	<input type="radio"/>
۳	<input type="radio"/>	<input checked="" type="radio"/>	<input type="radio"/>	<input type="radio"/>	۲۳	<input type="radio"/>	<input type="radio"/>	<input type="radio"/>	<input checked="" type="radio"/>	۴۳	<input type="radio"/>	<input type="radio"/>	<input type="radio"/>	<input type="radio"/>	۶۳	<input type="radio"/>	<input type="radio"/>	<input type="radio"/>	<input type="radio"/>
۴	<input type="radio"/>	<input type="radio"/>	<input checked="" type="radio"/>	<input type="radio"/>	۲۴	<input checked="" type="radio"/>	<input type="radio"/>	<input type="radio"/>	<input type="radio"/>	۴۴	<input type="radio"/>	<input type="radio"/>	<input type="radio"/>	<input type="radio"/>	۶۴	<input type="radio"/>	<input type="radio"/>	<input type="radio"/>	<input type="radio"/>
۵	<input checked="" type="radio"/>	<input type="radio"/>	<input type="radio"/>	<input type="radio"/>	۲۵	<input type="radio"/>	<input checked="" type="radio"/>	<input type="radio"/>	<input type="radio"/>	۴۵	<input type="radio"/>	<input type="radio"/>	<input type="radio"/>	<input type="radio"/>	۶۵	<input type="radio"/>	<input type="radio"/>	<input type="radio"/>	<input type="radio"/>
۶	<input type="radio"/>	<input type="radio"/>	<input checked="" type="radio"/>	<input type="radio"/>	۲۶	<input type="radio"/>	<input checked="" type="radio"/>	<input type="radio"/>	<input type="radio"/>	۴۶	<input type="radio"/>	<input type="radio"/>	<input type="radio"/>	<input type="radio"/>	۶۶	<input type="radio"/>	<input type="radio"/>	<input type="radio"/>	<input type="radio"/>
۷	<input type="radio"/>	<input type="radio"/>	<input type="radio"/>	<input checked="" type="radio"/>	۲۷	<input type="radio"/>	<input checked="" type="radio"/>	<input type="radio"/>	<input type="radio"/>	۴۷	<input type="radio"/>	<input type="radio"/>	<input type="radio"/>	<input type="radio"/>	۶۷	<input type="radio"/>	<input type="radio"/>	<input type="radio"/>	<input type="radio"/>
۸	<input type="radio"/>	<input checked="" type="radio"/>	<input type="radio"/>	<input type="radio"/>	۲۸	<input type="radio"/>	<input type="radio"/>	<input type="radio"/>	<input checked="" type="radio"/>	۴۸	<input type="radio"/>	<input type="radio"/>	<input type="radio"/>	<input type="radio"/>	۶۸	<input type="radio"/>	<input type="radio"/>	<input type="radio"/>	<input type="radio"/>
۹	<input type="radio"/>	<input checked="" type="radio"/>	<input type="radio"/>	<input type="radio"/>	۲۹	<input checked="" type="radio"/>	<input type="radio"/>	<input type="radio"/>	<input type="radio"/>	۴۹	<input type="radio"/>	<input type="radio"/>	<input type="radio"/>	<input type="radio"/>	۶۹	<input type="radio"/>	<input type="radio"/>	<input type="radio"/>	<input type="radio"/>
۱۰	<input type="radio"/>	<input type="radio"/>	<input type="radio"/>	<input checked="" type="radio"/>	۳۰	<input checked="" type="radio"/>	<input type="radio"/>	<input type="radio"/>	<input type="radio"/>	۵۰	<input type="radio"/>	<input type="radio"/>	<input type="radio"/>	<input type="radio"/>	۷۰	<input type="radio"/>	<input type="radio"/>	<input type="radio"/>	<input type="radio"/>
۱۱	<input checked="" type="radio"/>	<input type="radio"/>	<input type="radio"/>	<input type="radio"/>	۳۱	<input type="radio"/>	<input type="radio"/>	<input type="radio"/>	<input type="radio"/>	۵۱	<input type="radio"/>	<input type="radio"/>	<input type="radio"/>	<input type="radio"/>	۷۱	<input type="radio"/>	<input type="radio"/>	<input type="radio"/>	<input type="radio"/>
۱۲	<input type="radio"/>	<input type="radio"/>	<input checked="" type="radio"/>	<input type="radio"/>	۳۲	<input type="radio"/>	<input type="radio"/>	<input type="radio"/>	<input type="radio"/>	۵۲	<input type="radio"/>	<input type="radio"/>	<input type="radio"/>	<input type="radio"/>	۷۲	<input type="radio"/>	<input type="radio"/>	<input type="radio"/>	<input type="radio"/>
۱۳	<input checked="" type="radio"/>	<input type="radio"/>	<input type="radio"/>	<input type="radio"/>	۳۳	<input type="radio"/>	<input type="radio"/>	<input type="radio"/>	<input type="radio"/>	۵۳	<input type="radio"/>	<input type="radio"/>	<input type="radio"/>	<input type="radio"/>	۷۳	<input type="radio"/>	<input type="radio"/>	<input type="radio"/>	<input type="radio"/>
۱۴	<input type="radio"/>	<input type="radio"/>	<input checked="" type="radio"/>	<input type="radio"/>	۳۴	<input type="radio"/>	<input type="radio"/>	<input type="radio"/>	<input type="radio"/>	۵۴	<input type="radio"/>	<input type="radio"/>	<input type="radio"/>	<input type="radio"/>	۷۴	<input type="radio"/>	<input type="radio"/>	<input type="radio"/>	<input type="radio"/>
۱۵	<input type="radio"/>	<input type="radio"/>	<input type="radio"/>	<input checked="" type="radio"/>	۳۵	<input type="radio"/>	<input type="radio"/>	<input type="radio"/>	<input type="radio"/>	۵۵	<input type="radio"/>	<input type="radio"/>	<input type="radio"/>	<input type="radio"/>	۷۵	<input type="radio"/>	<input type="radio"/>	<input type="radio"/>	<input type="radio"/>
۱۶	<input checked="" type="radio"/>	<input type="radio"/>	<input type="radio"/>	<input type="radio"/>	۳۶	<input type="radio"/>	<input type="radio"/>	<input type="radio"/>	<input type="radio"/>	۵۶	<input type="radio"/>	<input type="radio"/>	<input type="radio"/>	<input type="radio"/>	۷۶	<input type="radio"/>	<input type="radio"/>	<input type="radio"/>	<input type="radio"/>
۱۷	<input type="radio"/>	<input type="radio"/>	<input checked="" type="radio"/>	<input type="radio"/>	۳۷	<input type="radio"/>	<input type="radio"/>	<input type="radio"/>	<input type="radio"/>	۵۷	<input type="radio"/>	<input type="radio"/>	<input type="radio"/>	<input type="radio"/>	۷۷	<input type="radio"/>	<input type="radio"/>	<input type="radio"/>	<input type="radio"/>
۱۸	<input type="radio"/>	<input checked="" type="radio"/>	<input type="radio"/>	<input type="radio"/>	۳۸	<input type="radio"/>	<input type="radio"/>	<input type="radio"/>	<input type="radio"/>	۵۸	<input type="radio"/>	<input type="radio"/>	<input type="radio"/>	<input type="radio"/>	۷۸	<input type="radio"/>	<input type="radio"/>	<input type="radio"/>	<input type="radio"/>
۱۹	<input checked="" type="radio"/>	<input type="radio"/>	<input type="radio"/>	<input type="radio"/>	۳۹	<input type="radio"/>	<input type="radio"/>	<input type="radio"/>	<input type="radio"/>	۵۹	<input type="radio"/>	<input type="radio"/>	<input type="radio"/>	<input type="radio"/>	۷۹	<input type="radio"/>	<input type="radio"/>	<input type="radio"/>	<input type="radio"/>
۲۰	<input type="radio"/>	<input checked="" type="radio"/>	<input type="radio"/>	<input type="radio"/>	۴۰	<input type="radio"/>	<input type="radio"/>	<input type="radio"/>	<input type="radio"/>	۶۰	<input type="radio"/>	<input type="radio"/>	<input type="radio"/>	<input type="radio"/>	۸۰	<input type="radio"/>	<input type="radio"/>	<input type="radio"/>	<input type="radio"/>

مسأله اول		مسأله دوم		مسأله سوم		مسأله چهارم		مسأله پنجم		مسأله ششم		مسأله هفتم		مسأله هشتم		مسأله نهم		مسأله دهم	
دکگان	یکان	دکگان	یکان	دکگان	یکان	دکگان	یکان	دکگان	یکان	دکگان	یکان	دکگان	یکان	دکگان	یکان	دکگان	یکان	دکگان	یکان
۰	۰	۰	۰	۰	۰	۰	۰	۰	۰	۰	۰	۰	۰	۰	۰	۰	۰	۰	۰
۱	۱	۱	۱	۱	۱	۱	۱	۱	۱	۱	۱	۱	۱	۱	۱	۱	۱	۱	۱
۲	۲	۲	۲	۲	۲	۲	۲	۲	۲	۲	۲	۲	۲	۲	۲	۲	۲	۲	۲
۳	۳	۳	۳	۳	۳	۳	۳	۳	۳	۳	۳	۳	۳	۳	۳	۳	۳	۳	۳
۴	۴	۴	۴	۴	۴	۴	۴	۴	۴	۴	۴	۴	۴	۴	۴	۴	۴	۴	۴
۵	۵	۵	۵	۵	۵	۵	۵	۵	۵	۵	۵	۵	۵	۵	۵	۵	۵	۵	۵
۶	۶	۶	۶	۶	۶	۶	۶	۶	۶	۶	۶	۶	۶	۶	۶	۶	۶	۶	۶
۷	۷	۷	۷	۷	۷	۷	۷	۷	۷	۷	۷	۷	۷	۷	۷	۷	۷	۷	۷
۸	۸	۸	۸	۸	۸	۸	۸	۸	۸	۸	۸	۸	۸	۸	۸	۸	۸	۸	۸
۹	۹	۹	۹	۹	۹	۹	۹	۹	۹	۹	۹	۹	۹	۹	۹	۹	۹	۹	۹

محل امضاء

آرمان دشتی زاده

اینجانب فرزند با کد ملی

صحت اطلاعات مندرج در پاسخ برگ را با مشخصات خود تأیید می‌نمایم.

- * برای یافتن گزینه‌ی صحیح در سوالات محاسباتی، جواب بدست آمده را به نزدیکترین گزینه گرد کنید.
- * قسمت محاسبات هر سوال، تصویر اسکرین شات (Screenshot) از صفحه‌ی ماشین حساب آنلاین می‌باشد.

سوال ۱ - (گزینه ۳) برای حل این سوال کافیسیت اندازه‌ی زاویه‌ای اجسام خواسته شده را در فاصله‌های داده شده بر حسب میکروثانیه‌ی قوسی با استفاده از رابطه‌ی زیر پیدا کنیم.

$$\theta^{micro\ arcsec} = \left(\frac{D}{d}\right)^{rad} \times 206265 \times 10^6$$

در این رابطه D اندازه‌ی جسم مورد نظر و d فاصله تا آن جسم می‌باشد.

اندازه زاویه ای یک خودکار در کره ماه:

طول متوسط خودکار = ۱۵ سانتی متر / فاصله‌ی زمین تا ماه = مراجعه به جدول ثوابت

$$\theta^{arcsec} = \left(\frac{15 \times 10^{-2}}{3.84 \times 10^8}\right)^{rad} \times 206265 \times 10^6 = \mathbf{80.57\ micro\ arcsec}$$

اندازه زاویه ای یک اتوبوس در سیاره مریخ:

طول متوسط اتوبوس = ۲۰ متر / فاصله‌ی زمین تا مریخ در نزدیکترین فاصله = ۰.۵ واحد نجومی

$$\theta^{arcsec} = \left(\frac{20}{0.5 \times 1.5 \times 10^{11}}\right)^{rad} \times 206265 \times 10^6 = \mathbf{55\ micro\ arcsec}$$

اندازه زاویه‌ای تار مو در زاهدان از تبریز:

ضخامت متوسط یک تار مو: ۱۰۰ میکرون

فاصله‌ی زاهدان تا تبریز: ۱۶۰۰ کیلومتر

$$\theta^{arcsec} = \left(\frac{100 \times 10^{-6}}{1600 \times 10^3}\right)^{rad} \times 206265 \times 10^6 = \mathbf{12.9\ micro\ arcsec}$$

اندازه زمین فوتبال روی سیاره مشتری:

طول زمین فوتبال: ۱۰۰ متر

فاصله‌ی زمین تا مشتری در نزدیکترین فاصله = ۴.۲ واحد نجومی

$$\theta^{arcsec} = \left(\frac{100}{4.2 \times 1.5 \times 10^{11}}\right)^{rad} \times 206265 \times 10^6 = \mathbf{275\ micro\ arcsec}$$

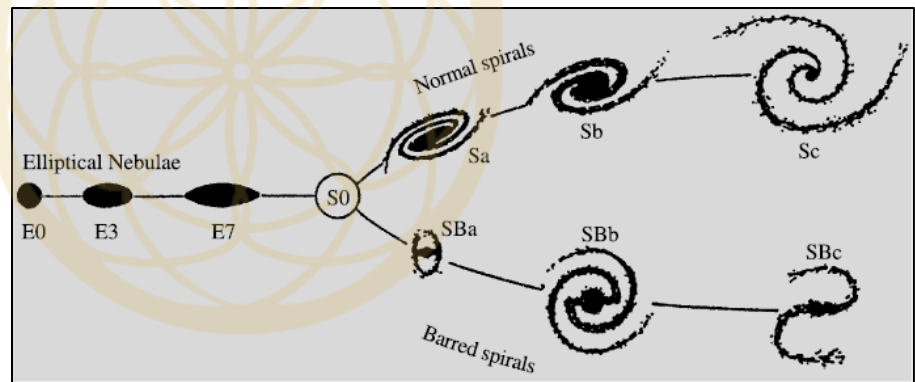
با مقایسه‌ی گزینه‌ها (حتی اگر تخمین‌ها مقداری خطا داشته باشد) گزینه‌ای که شامل کمترین عدد می‌باشد که از ۲۰ میکروثانیه‌ی قوسی نیز کمتر است را به عنوان گزینه صحیح انتخاب می‌کنیم. یعنی گزینه‌ی ۳. تلسکوپ گایا با توان تفکیک ۲۰ میکروثانیه قوسی نمی‌تواند یک تار مو در زاهدان را از شهر تبریز تفکیک کند. اما نکته‌ی جالب این است با مرور دوباره‌ی گزینه‌ها به توان تفکیک فوق‌العاده‌ی این تلسکوپ پی

می‌بریم.

$\frac{15 \cdot 10^{-2}}{3.84 \cdot 10^8} \cdot 206265 \cdot 10^6$	$= 80.57226563$	<input type="radio"/>
$\frac{20}{0.5 \cdot 1.5 \cdot 10^{11}} \cdot 206265 \cdot 10^6$	$= 55.004$	<input type="radio"/>
$\frac{100 \cdot 10^{-6}}{1600 \cdot 10^3} \cdot 206265 \cdot 10^6$	$= 12.8915625$	<input type="radio"/>
$\frac{100}{0.5 \cdot 1.5 \cdot 10^{11}} \cdot 206265 \cdot 10^6$	$= 275.02$	<input type="radio"/>

سوال ۲ - (گزینه ۳)

با توجه به طبقه‌بندی هابل با توجه به تصویر زیر می‌دانیم که این کهکشان یک کهکشان بیضوی یا میله‌ای نیست پس گزینه‌ی ۲ و ۴ حذف می‌شوند. با مقایسه هاله‌ی مرکزی این کهکشان با کهکشان‌های مارپیچی در طبقه‌بندی هابل، با توجه به کوچک بودن هاله‌ی مرکزی می‌توان دریافت که این کهکشان در گروه **Sc** قرار می‌گیرد.



تصویر از فصل ۱۹ کتاب Fundamental Astronomy.

سوال ۳ - (گزینه ۲)

چون در طی مسیر عرض جغرافیایی فرد عوض نشده پس باید روی یک دایره صغیره به موازات استوا حرکت کند. می‌دانیم که طول کمان دایره صغیره از رابطه‌ی زیر بدست می‌آید.

$$A'B' = AB \cdot \cos(\varphi)$$

پس کمانی متناظر که روی استوا طی شده است برابر است با:

$$AB = \frac{A'B'}{\cos(\varphi)}$$

$$AB = \frac{1000}{\cos(35.5)} \rightarrow AB = 1228 \text{ km}$$

که اختلاف زاویه‌ای متناظر این فاصله برابر است با:

$$\Delta l = \frac{AB}{2\pi R} \times 360 \rightarrow \Delta l = \frac{1228}{2\pi \times 6371} \times 360 = 11^\circ$$

محاسبات سوال ۳:

$\frac{1000}{\cos(35.5)}$	= 1228.326911
$\frac{1228.326911}{2\pi \cdot 6371} \cdot 360$	= 11.0466093

سوال ۴- (گزینه ۳)

دو ستاره خورشیدگون هستند و در یک خوشه ستاره‌ای قرار دارند پس درخشندگی و فاصله‌ی آن دو ستاره و در نتیجه روشنایی آن‌ها از دید ناظر یکسان است. زمان نوردهی A دو برابر زمان نوردهی B است پس انرژی ثبت شده از ستاره‌ی A دو برابر ستاره‌ی B است.

$$\frac{E_A}{E_B} = 2$$

$$m_A - m_B = -2.5 \log\left(\frac{E_A}{E_B}\right) \rightarrow m_A - m_B = -2.5 \log(2) \rightarrow m_A - m_B = -0.75$$

پس اختلاف قدر برابر است با **0.75** قدر.

محاسبات سوال ۴:

$$-2.5 \cdot \log(2)$$

$$= -0.7525749892$$

باشگاه طلایی‌ها



سوال ۵ - (گزینه ۱)

هنگامی که سیاره‌ای فراخورشیدی جلوی ستاره‌ی منظومه قرار می‌گیرد به اندازه‌ی سطح مقطع πR_p^2 جلوی نور ستاره به شعاع را می‌گیرد و قدر ظاهری ستاره به اندازه‌ی Δm افزایش می‌یابد. اگر روشنایی سطحی ستاره با شعاع R_s را b_s در نظر بگیریم، نسبت روشنایی دریافتی از سیستم وقتی سیاره مقابل ستاره قرار دارد به حالتی که سیاره مقابل ستاره قرار دارد برابر است با:

$$\frac{b_s(\pi R_s^2 - \pi R_p^2)}{b_s \pi R_s^2}$$

طبق فرض سوال حداقل اختلاف قدر قابل آشکارسازی سیستم بین دو حالت فوق برابر 0.0001 می‌باشد، پس داریم:

$$\Delta m = -2.5 \log\left(\frac{b_s(\pi R_s^2 - \pi R_p^2)}{b_s \pi R_s^2}\right) \rightarrow \Delta m = -2.5 \log\left(1 - \frac{R_p^2}{R_s^2}\right) \rightarrow 0.0001 = -2.5 \log\left(1 - \frac{R_p^2}{R_s^2}\right)$$


از معادله‌ی فوق مقدار شعاع سیاره بر حسب شعاع خورشید بدست می‌آید:

$$R_p = 0.0096 R_s \rightarrow R_p = 6.68 \times 10^6 \text{ m}$$

با نگاهی به گزینه‌ها متوجه می‌شویم که این عدد را باید بر حسب شعاع زمین یا مشتری محاسبه کنیم. با تقسیم این عدد بر شعاع زمین خواهیم داشت:

$$R_p = 1.05 R_{\oplus}$$

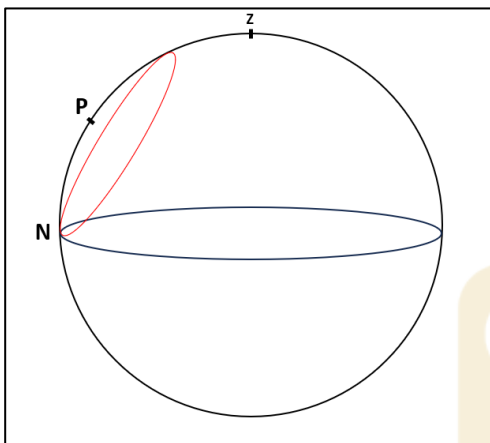
محاسبات سوال ۵:

$\frac{0.0001}{-2.5}$	$= -4 \times 10^{-5}$ 
$10^{-4 \times 10^{-5}}$	$= 0.9999079008$
$1 - 0.9999079008$	$= 9.20991623 \times 10^{-5}$
$\sqrt{9.20991623 \times 10^{-5}}$	$= 0.009596830848$
$0.009596830848 \cdot 6.96 \cdot 10^8$	$= 6679394.27$
$\frac{6679394.27}{6371 \cdot 10^3}$	$= 1.048405944$

سوال ۶ - (گزینه ۳)

ابتدا میل ستاره‌ی قطبی کنونی که در قدیم در شهر سومر با عرض جغرافیایی ۳۳.۳ درجه‌ی شمالی غروب نمی‌کرده و تنها با افق مماس می‌شده را حساب می‌کنیم. دایره‌ی صغیره قرمز مسیر حرکت این ستاره را نشان می‌دهد.

کمان PN برابر عرض جغرافیایی ناظر (φ) و همچنین برابر $(90 - \delta)$ برای ستاره است. پس می‌توان فهمید در آن زمان میل ستاره قطبی را محاسبه کرد.



$$90 - \delta = \varphi \rightarrow \delta = 90 - \varphi \rightarrow \delta = 90 - 33.3 \rightarrow \delta = 56.7$$

پس باید زمانی را حساب کنیم که میل ستاره‌ی قطبی کنونی برابر ۵۶.۷ درجه بوده است.

با توجه به حرکت تقدیمی می‌دانیم که قطب شمال سماوی روی یک دایره صغیره به

فاصله‌ی ۲۳.۵ درجه از قطب شمال دایره‌البروج روی یک دایره صغیره به موازات

دایره‌البروج در مدت زمان ۲۶۰۰۰ سال (طبق جدول ثوابت) است. حال کافیست زاویه‌ی

θ را محاسبه کنیم و از روی آن مدت زمان را بدست آوریم.

در مثلث PKP' رابطه‌ی کسینوس‌ها را می‌نویسیم:

$$\cos(90 - \delta) = \cos(\epsilon) \cos(\epsilon) + \sin(\epsilon) \sin(\epsilon) \cos(\theta)$$

$$\sin(\delta) = \cos^2(\epsilon) + \sin^2(\epsilon) \cos(\theta) \rightarrow \cos(\theta) = \frac{\sin(\delta) - \cos^2(\epsilon)}{\sin^2(\epsilon)}$$

$$\cos(\theta) = \frac{\sin(56.7) - \cos^2(23.5)}{\sin^2(23.5)} \rightarrow \theta = 91.78^\circ$$

حال مدت زمان طی شدن این زاویه بر اثر حرکت تقدیمی را محاسبه می‌کنیم:

$$\omega = \frac{360}{26000} \frac{deg}{yr} \text{ : سرعت زاویه‌ای حرکت تقدیمی}$$

$$t = \frac{\theta}{\omega} \rightarrow t = \frac{91.87}{\frac{360}{26000}} \rightarrow t = 6635 \text{ yr}$$

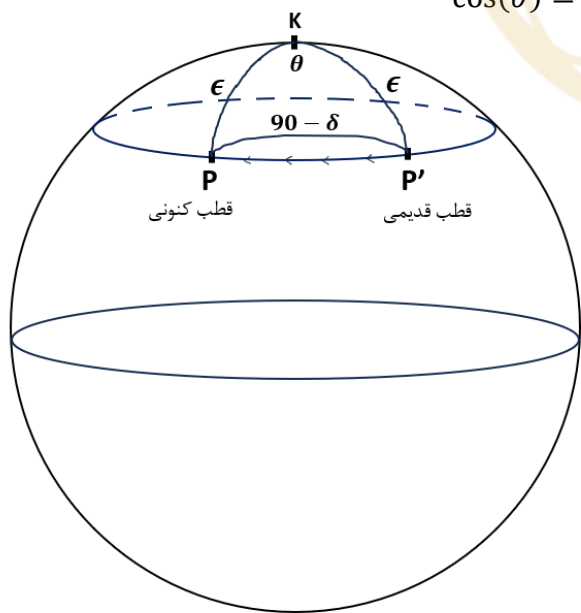
با توجه به اینکه در سال ۲۰۲۴ میلادی قرار داریم و این رویداد ۶۶۳۵ سال


قبل رخ داده است می‌توانیم تاریخ خواسته شده را بر حسب سال میلادی

بدست آوریم با توجه به اینکه در سال ۲۰۲۴ هستیم:

$$2024 - 6635 = -4611$$

با توجه به گزینه‌ها و گرد کردن عدد فوق تاریخ مورد سوال حدود ۵۰۰۰ سال قبل میلاد بوده است.



$90 - 33.3$	$= 56.7$	
$\frac{\sin(56.7) - \cos^2(23.5)}{\sin^2(23.5)}$	$= -0.03265277917$	
$\cos^{-1}\left(\frac{-0.03265277917}{\text{ans}}\right)$	$= 91.87119905$	
$\frac{91.87119905}{\frac{360}{26000}}$	$= 6635.142154$	
$2024 - 6635$	$= -4611$	



سوال ۷ - (گزینه ۴)

قدر ماه کامل برابر ۱۲.۷- (جدول ثوابت) است. طبق خواسته‌ی سوال خورشید از پشت یک تلسکوپ ۵ اینچی باید به همین قدر دیده شود. ابتدا محاسبه می‌کنیم که جسمی که با این قدر از پشت تلسکوپ دیده می‌شود واقعا چه قدری دارد.

$$LGP = \left(\frac{D_T}{D_e}\right)^2 \rightarrow LGP = \left(\frac{5 \times 25}{6}\right)^2 \rightarrow LGP = 434$$

$$m_T - m_e = -2.5 \log(LGP) \rightarrow m_e = m_T + 2.5 \log(LGP) \rightarrow m_e = -6.1$$

پس اگر قدر ظاهری خورشید در آسمان ۶.۱- باشد ما در تلسکوپ ۵ اینچی آن را به روشنی ماه کامل خواهیم داد. اما می‌دانیم که قدر ظاهری خورشید در آسمان ۲۶.۷- است. پس می‌توانیم حساب کنیم که نسبت روشنایی در دو حالت فوق چقدر است و این یعنی فیلتر ماه چه کسری از نور را باید عبور دهد.

$$m_1 - m_2 = -2.5 \log\left(\frac{b_1}{b_2}\right) \rightarrow -6.1 - (-26.7) = -2.5 \log\left(\frac{b_1}{b_2}\right) \rightarrow \frac{b_1}{b_2} = 5.8 \times 10^{-9}$$

عدد فوق را اگر گرد کنیم حاصل برابر می‌شود با: 10^{-8}

محاسبات سوال ۷:

$\left(\frac{5 \cdot 25}{6}\right)^2$	= 434.0277778
$-12.7 + 2.5 \log\left(\frac{434.0277778}{\text{ans}}\right)$	= -6.106206187
$\frac{-6.106206187 - (-26.7)}{-2.5}$	= -8.237517525
$10^{\frac{-8.237517525}{\text{ans}}}$	= $5.78738634 \times 10^{-9}$

سوال ۸ - (گزینه ۲)

با توجه به قانون گرانش، رابطه‌ی نیروی گرانش و شتاب در حرکت دایره‌ای را می‌نویسیم:

$$\frac{GMm}{r^2} = m \frac{v^2}{r} \rightarrow v^2 = \frac{GM}{r} \quad (I)$$

مقدار جرم مرکزی که به هر ستاره نیرو وارد می‌کند، مجموع جرم سیاه‌چاله‌ی مرکزی و جرم هاله‌ی کهکشان در داخل مدار ستاره است.

$$M = M_{BH} + M_{Halo}$$

برای بدست آوردن جرم هاله باید از تابع چگالی استفاده کنیم:

$$\rho = \frac{\alpha}{4\pi r^2} \rightarrow \frac{dm}{dv} = \frac{\alpha}{4\pi r^2} \rightarrow dm = \frac{\alpha}{4\pi r^2} dv$$

از طرفی المان حجم برابر است با:

$$dv = 4\pi r^2 dr$$

بنابراین:

$$dm = \frac{\alpha}{4\pi r^2} 4\pi r^2 dr \rightarrow dm = \alpha dr \rightarrow \int dm = \int_0^r \alpha dr \rightarrow M_{Halo} = \alpha r$$

پس کل جرم برابر است با:

$$M = M_{BH} + \alpha R$$

با جایگذاری در رابطه‌ی از (I) داریم:

$$v^2 = \frac{G(M_{BH} + \alpha R)}{r} \rightarrow M_{BH} + \alpha r = \frac{v^2 r}{G} \rightarrow \alpha r = \frac{v^2 r}{G} - M_{BH}$$

$$\alpha = \frac{v^2}{G} - \frac{M_{BH}}{r} \rightarrow \alpha = \frac{(100 \times 10^3)^2}{6.67 \times 10^{-11}} - \frac{4 \times 10^6 \times 1.99 \times 10^{30}}{2 \times 3.09 \times 10^{16}}$$

$$\alpha = 2.1 \times 10^{19} \frac{kg}{m} \rightarrow \alpha = 2.1 \times 10^{19} \frac{3.09 \times 10^{16}}{1.99 \times 10^{30}} = 3.3 \times 10^5 \frac{M_{\odot}}{pc} \rightarrow \alpha \approx 300000 \frac{M_{\odot}}{pc}$$

محاسبات سوال ۸:

$$\frac{(100 \cdot 10^3)^2}{6.67 \cdot 10^{-11}} - \frac{4 \cdot 10^6 \cdot 1.99 \cdot 10^{30}}{2 \cdot 3.09 \cdot 10^{16}} = 2.11224485 \times 10^{19}$$

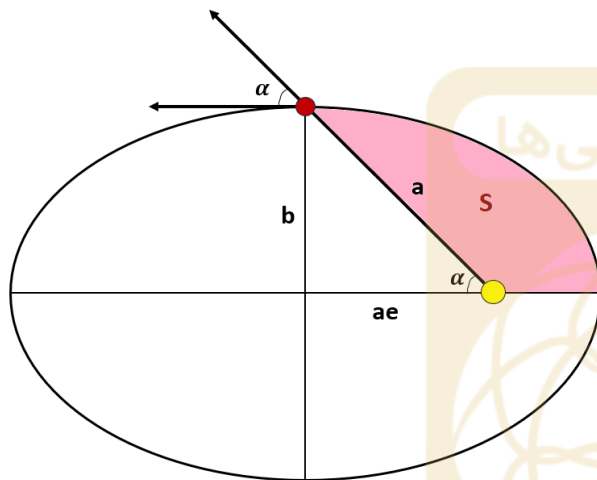
$$\boxed{2.11224485 \times 10^{19}} \cdot \frac{3.09 \cdot 10^{16}}{1.99 \cdot 10^{30}} = 327981.7378$$

سوال ۹ - (گزینه ۲)

دنباله‌ی گازی یا دنباله‌ی یونی دنباله‌دار همواره در جهت مخالف خورشید و به بیان دیگر در راستای بردار شعاعی دنباله‌دار در مدارش قرار دارد. پس منظور از زاویه‌ی بین دنباله‌ی گازی و راستای حرکت دنباله‌دار، زاویه‌ی بین بردار شعاعی و سرعت دنباله‌دار است. با توجه به خروج از مرکز داده شده (۰.۵) و ساختار بیضی می‌توان حدس که جسم در راس نیم‌قطر اقصر قرار دارد.

$$\cos(\alpha) = \frac{ae}{a} \rightarrow \cos(\alpha) = e \rightarrow \cos(\alpha) = 0.5 \rightarrow \alpha = 60^\circ$$

پس می‌بینیم وقتی دنباله‌دار در راس نیم‌قطر اقصر قرار داشته باشد زاویه‌ی بین بردار شعاعی و بردار سرعت آن برابر ۶۰ درجه می‌شود. حال باید حساب کنیم چقدر طول می‌کشد تا دنباله‌دار از حضيض به راس نیم‌قطر اقصر برسد. در نظر داشته باشید اگر چرخش دنباله‌دار را ساعتگرد در نظر بگیریم تفاوتی در جواب مسئله ایجاد نمی‌شود! برای محاسبه‌ی زمان باید از قانون دوم کپلر استفاده کنیم:



$$\frac{t}{T} = \frac{S}{S_{\text{کل}}}$$

$$S = \frac{1}{4}\pi ab - \frac{ae \cdot b}{2}$$

$$S_{\text{کل}} = \pi ab$$

$$\frac{t}{T} = \frac{\frac{1}{4}\pi ab - \frac{ae \cdot b}{2}}{\pi ab} = \frac{\frac{1}{4}\pi - \frac{e}{2}}{\pi} \rightarrow \frac{1}{4}\pi - \frac{0.5}{2} \rightarrow \frac{t}{T} = 0.17 \rightarrow t = 0.17 T$$

محاسبات سوال ۹:

$\cos^{-1}(0.5)$	= 60
$\frac{\frac{1}{4}\pi - \frac{0.5}{2}}{\pi}$	= 0.1704225285

سوال ۱۰ - (گزینه ۴)

ابتدا رابطه‌ی بین جرم و شعاع سیاهچاله را بررسی می‌کنیم، می‌دانیم شعاع شواتزشیلد برابر است با:

$$R_{sch} = \frac{2GM}{c^2}$$

با توجه به محیط دایره می‌توان نوشت:

$$\text{محیط} = 2\pi R_{sch} = \frac{4\pi GM}{c^2} \xrightarrow{K = \frac{4\pi G}{c^2}} \text{محیط} = KM$$

پس رابطه‌ی بین محیط و جرم سیاهچاله خطی است. یعنی نمودار C مربوط به سیاهچاله است:

$$C = BH$$

با استفاده از همین نکته گزینه صحیح (گزینه ۴) مشخص خواهد شد.

در مورد کوتوله سفید طبق حد چاندراسکار می‌دانیم که آستانه‌ی جرم ثابتی (۱.۴۴ برابر جرم خورشید) دارد.

ستاره نوترونی نیز آستانه‌ی جرم ثابتی (۱.۴ تا ۳ برابر جرم خورشید) دارد.

پس دو منحنی A و B که آستانه‌ی جرم ثابت دارند مربوط به این دو هستند. منحنی B آستانه‌ی جرمی بیشتری دارد و در مجموع شعاع آن کوچکتر است پس متعلق به ستاره نوترونی است:

$$B = NS$$

و منحنی A مربوط به کوتوله سفید خواهد بود:

$$A = WD$$

در نهایت جواب به این صورت خواهد بود:

$$A = WD, B = NS, C = BH$$

سوال ۱۱ - (گزینه ۱)

ابتدا انرژی هر لایه را حساب کرده و برای محاسبه‌ی انرژی آزاد شده در هر گذار انرژی لایه‌های مربوط را از هم کم می‌کنیم.
با توجه به جدول ثوابت انرژی یونش اتم هیدروژن برابر انرژی تراز اول است و برابر است با:

$$E_1 = 13.6 \text{ eV}$$

خط طیفی لیمان آلفا: گذار از لایه دوم به لایه اول:

$$E_2 = \frac{13.6}{2^2} = 3.4 \text{ eV} \quad \text{انرژی لایه دوم:}$$

$$E_1 - E_2 = 13.6 - 3.4 = 10.2 \text{ eV} = 1.63 \times 10^{-18} \text{ J}$$

خط طیفی اچ آلفا: گذار از لایه سوم به دوم:

$$E_3 = \frac{13.6}{3^2} = 1.51 \text{ eV} \quad \text{انرژی لایه سوم:}$$

$$E_2 - E_3 = 3.4 - 1.51 = 1.89 \text{ eV} = 3.02 \times 10^{-19} \text{ J}$$

حال طول موج مربوط به هر انرژی را محاسبه می‌کنیم:

$$E = h \frac{c}{\lambda} \rightarrow \lambda = \frac{hc}{E}$$

$$\lambda^{nm} = \frac{hc}{1.63 \times 10^{-18}} \times 10^9 = 121.9 \text{ nm} \quad \text{لیمان آلفا:}$$

$$\lambda^{nm} = \frac{hc}{3.02 \times 10^{-19}} \times 10^9 = 657.7 \text{ nm} \quad \text{اچ آلفا:}$$

محاسبات سوال ۱۱:

$\frac{13.6}{2^2}$	= 3.4	<input type="radio"/>
$(13.6 - 3.4) \cdot 1.6 \cdot 10^{-19}$	= 1.632×10^{-18}	
$\frac{13.6}{3^2}$	= 1.511111111	<input type="radio"/>
$(3.4 - 1.51) \cdot 1.6 \cdot 10^{-19}$	= 3.024×10^{-19}	
$\frac{6.63 \cdot 10^{-34} \cdot 3 \cdot 10^8}{1.632 \times 10^{-18}} \cdot 10^9$	= 121.875	<input type="radio"/>
$\frac{6.63 \cdot 10^{-34} \cdot 3 \cdot 10^8}{3.024 \times 10^{-19}} \cdot 10^9$	= 657.7380952	<input type="radio"/>

سوال ۱۲ - (گزینه ۳)

حرکت ستاره‌ها از دید ما را می‌توان به دو حرکت مماسی و حرکت شعاعی تجزیه کرد. سرعت خاصی ستاره مربوط به حرکت مماسی است و سرعت شعاعی معمولاً با استفاده از طیف‌نگاری و اثر داپلر قابل اندازه‌گیری است.

ابتدا سرعت ستاره را در راستای مماسی محاسبه می‌کنیم. با توجه به آنکه $v = \omega \cdot r$ می‌توان سرعت مماسی را بدست آورد. از طرفی با توجه

$$d = \frac{1}{p} \rightarrow d = \frac{1}{0.2} \rightarrow d = 5 \text{ pc}$$

به اختلاف منظر فاصله‌ی ستاره برابر است با:

$$v_{\perp} = \mu \cdot d \rightarrow v_{\perp} = 2.5 \times \frac{1}{206265} \times \frac{1}{365 \times 24 \times 60 \times 60} \times 5 \times 206265 \times 1.5 \times 10^{11} \times 10^{-3} = 59.4 \frac{\text{km}}{\text{s}}$$

برای محاسبه سرعت شعاعی از اثر داپلر استفاده می‌کنیم. می‌دانیم طول موج مربوط به خط طیفی $\alpha - Pa$ برابر است با 1875 nm

$$\frac{\lambda - \lambda_0}{\lambda_0} = \frac{v_r}{c} \rightarrow v_r = \frac{\lambda - \lambda_0}{\lambda_0} c \rightarrow v_r = \frac{1870 - 1875}{1875} \times 3 \times 10^8 \times 10^{-3} \rightarrow v_r = -800 \frac{\text{km}}{\text{s}}$$


سرعت حرکت ستاره برابر است با:

$$v = \sqrt{v_{\perp}^2 + v_r^2} \rightarrow v = \sqrt{59.4^2 + 800^2} \rightarrow v = 802.2 \frac{\text{km}}{\text{s}}$$

مسافتی که در یک ۱۰۰۰ سال طی می‌کند برابر است با:

$$x = vt \rightarrow x = 802.2 \times 10^3 \times 1000 \times 365 \times 24 \times 60 \times 60 \times \frac{1}{3.09 \times 10^{16}} \rightarrow x = 0.8 \text{ pc}$$

تبدیل ثانیه قوسی به رادیان - تبدیل سال و ثانیه - تبدیل پارسک و متر - تبدیل متر و کیلومتر

$\frac{1}{0.2}$	= 5
$2.5 \cdot \frac{1}{365 \cdot 24 \cdot 60 \cdot 60} \cdot 5 \cdot 1.5 \cdot 10^{11} \cdot 10^{-3}$	= 59.45585997 
$\frac{1870 - 1875}{1875} \cdot 3 \cdot 10^8$	= -800000
$\sqrt{59.4^2 + 800^2}$	= 802.202194
$\frac{802.202194}{\text{ans}} \cdot 10^3 \cdot 1000 \cdot 365 \cdot 24 \cdot 60 \cdot 60$	= $2.52982484 \times 10^{16}$
$\frac{2.52982484 \times 10^{16}}{\text{ans}} \cdot 3.09 \cdot 10^{16}$	= 0.8187135401

باشگاه طلايي ها



سوال ۱۳ - (گزینه ۱)

ابتدا انرژی جذب شده توسط مریخ از خورشید را محاسبه می‌کنیم، این انرژی سیاره را به دمای T_{eff} می‌رساند و با جسم سیاه در نظر گرفتن مریخ این مقدار، همان انرژی است که تابش می‌کند:

انرژی جذب شده توسط مریخ در ۱ ثانیه:

$$E = b_{\odot} \cdot S_{eff} \cdot (1 - A) \rightarrow E = \frac{L_{\odot}}{4\pi d^2} \cdot \pi r_m^2 \cdot (1 - A)$$

انرژی تابش شده از مریخ در ۱ ثانیه:

$$E = 4\pi r_m^2 \sigma T_{eff}^4$$

مقدار این دو انرژی را با یکدیگر برابر قرار می‌دهیم تا دما را بدست آوریم:

$$\frac{L_{\odot}}{4\pi d^2} \cdot \pi r_m^2 \cdot (1 - A) = 4\pi r_m^2 \sigma T_{eff}^4 \rightarrow T_{eff} = \sqrt[4]{\frac{L_{\odot}(1 - A)}{16\pi d^2 \sigma}}$$

$$T_{eff} = \sqrt[4]{\frac{3.85 \times 10^{26} \times (1 - 0.17)}{16\pi \times (1.5 \times 10^{11})^2 \times 5.67 \times 10^{-8}}} \rightarrow T_{eff} \approx 217 \text{ K} \xrightarrow{-273} T_{eff} = -56^{\circ}\text{C}$$

محاسبات سوال ۱۳:

$\sqrt[4]{\frac{3.85 \cdot 10^{26} \cdot (1 - 0.17)}{16\pi \cdot (1.5 \cdot 10^{11})^2 \cdot 5.67 \cdot 10^{-8}}}$	= 216.9352956
$\boxed{216.9352956} - 273$	= -56.06470444

سوال ۱۴ - (گزینه ۳)

به بررسی تک تک گزینه‌ها می‌پردازیم.

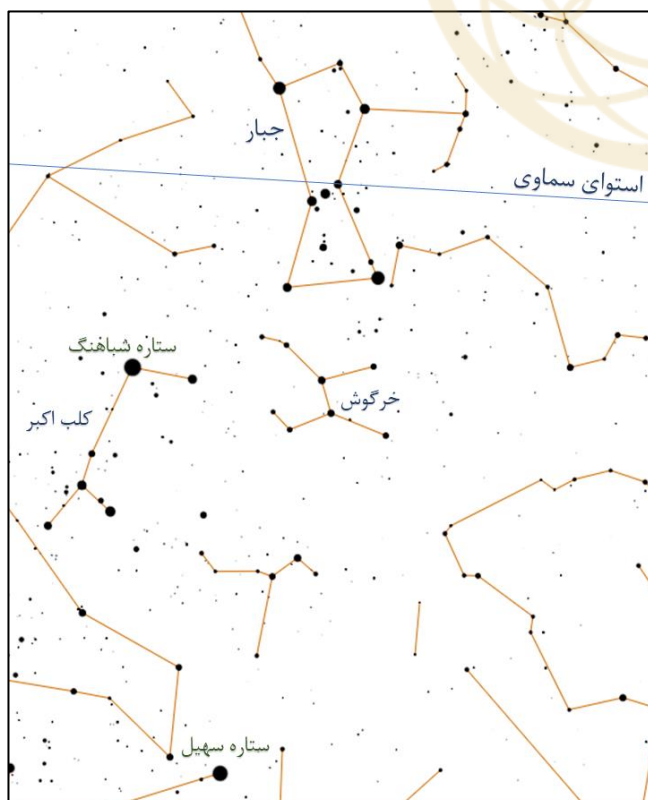
گزینه ۱) صورت فلکی خرگوش در پایین صورت فلکی جبار قرار دارد و پر نورترین ستاره‌ی آسمان یعنی شباهنگ در صورت فلکی کلب اکبر در سمت چپ تصویر قرار دارد. پس این گزینه صحیح است.

گزینه ۲) در صورت فلکی جبار، سحابی جبار (M42) با قدری حدود 4 از پر نورترین اجرام غیرستاره‌ای آسمان است که می‌توان آن را با چشم غیرمسلح در آسمانی تاریک به صورت هاله‌ای بسیار کوچک رصد کرد. پس این گزینه صحیح است.

گزینه ۳) کافیس‌ت تا در زمستان یکبار به آسمان چشم دوخته باشیم تا شش ضلعی زمستانی که یکی از رؤس آن ستاره‌ی ابطالجوزا است به همراه صورت فلکی درخشان جبار را در آسمان رصد کرده باشیم. ستاره‌ی شباهنگ نیز به عنوان پر نورترین ستاره‌ی آسمان در شب‌های فصل زمستان قابل رویت است. پس این گزینه غلط است.

گزینه ۴) استوای سماوی از نزدیکی سه ستاره‌ی معروف به کمربند جبار می‌گذرد و ستاره‌ی پر نور در پایین تصویر ستاره‌ی سهیل است. پس

این گزینه صحیح است.



سوال ۱۵ - (گزینه ۳)

با توجه به چگالی انرژی تابشی می توان نوشت:

$$u_{rad} = u_{rad_0} a^{-4} \xrightarrow{u = \frac{4\sigma}{c} T^4} T_{CMB}^4 = T_{CMB_0}^4 a^{-4}$$

$$T_{CMB_0} = a T_{CMB} \xrightarrow{a = \frac{1}{1+z}} T_{CMB_0} = \frac{T_{CMB}}{1+z} \rightarrow T_{CMB} = T_{CMB_0} (1+z)$$

$$T_{CMB_{dec}} = 2.7 \times (1 + z_{dec})$$

با توجه به جدول ثوابت میزان قرمزگرایی زمان واجفتیدگی برابر 1089 می باشد. بنابراین:

$$T_{CMB_{dec}} = 2.7 \times (1 + 1089) \rightarrow T_{CMB_{dec}} = 2943 \text{ K}$$

حال برای محاسبه ی انرژی در حجم معادل یک کوله پشتی باید چگالی انرژی را در حجم کوله ضرب کنیم.

باشگاه طلایی ها


ابتدا حجم یک کوله پشتی را تخمین می زنیم:

$$V = 0.5 \times 0.3 \times 0.2 \rightarrow V = 0.03 \text{ m}^3$$

پس انرژی برابر است با:

$$E = V \frac{4\sigma}{c} T_{CMB_{dec}}^4 \rightarrow E = 0.03 \times \frac{4 \times 5.67 \times 10^{-8}}{3 \times 10^8} \rightarrow E = 1.7 \times 10^{-3} \rightarrow E \approx 10^{-3}$$

محاسبات سوال ۱۵:

$2.7 \cdot (1 + 1089)$	$= 2943$
$0.5 \cdot 0.3 \cdot 0.2$	$= 0.03$ 
$0.03 \cdot \frac{4 \cdot 5.67 \cdot 10^{-8}}{3 \cdot 10^8} \cdot 2943^4$	$= 0.001701390873$

سوال ۱۶ - (گزینه ۱)

ابتدا با استفاده از پایستگی تکانه‌ی زاویه‌ای واحد جرم در مدار بیضوی، مقدار آن را در حضيض و اوج (جایی که زاویه بین سرعت و بردار شعاع ۹۰ درجه است) برابر قرار می‌دهیم و خروج از مرکز مدار جسم اول را بدست می‌آوریم:

$$r_p v_p = r_A v_A \rightarrow \frac{v_p}{v_p} = \frac{r_A}{r_p} = 4 \rightarrow \frac{a(1-e)}{a(1+e)} = 4 \rightarrow 1+e = 4-4e \rightarrow e = \frac{3}{5} = 0.6$$

حال باید مساحت جاروب شده توسط این جسم را در یک سوم دوره تناوب محاسبه کنیم، برای این کار از قانون دوم کپلر استفاده می‌کنیم:

$$\frac{S}{S_{\text{کل}}} = \frac{\frac{1}{3}T}{T} \rightarrow S = \frac{1}{3}S_{\text{کل}} \rightarrow S = \frac{1}{3}\pi ab \xrightarrow{b=a\sqrt{1-e^2}} S = \frac{1}{3}\pi a^2\sqrt{1-e^2}$$

از طرفی مساحت جاروب شده توسط جسم دوم در مدار دایروی برابر یک سوم مساحت دایره است چون جسم در مدار دایروی با آهنگ ثابت در حرکت است، پس مساحت جاروب شده توسط جسم دوم برابر است با:

$$SS = \frac{1}{3}\pi a^2$$

نسبت این دو مقدار برابر است با:

$$\frac{S}{SS} = \frac{\frac{1}{3}\pi a^2\sqrt{1-e^2}}{\frac{1}{3}\pi a^2} = \sqrt{1-e^2} \rightarrow \frac{S}{SS} = \sqrt{1-0.6^2} \rightarrow \frac{S}{SS} = 0.8$$

محاسبات سوال ۱۶:

$\frac{3}{5}$	= 0.6 <input type="radio"/>
$\sqrt{1-0.6^2}$	= 0.8 <input checked="" type="radio"/>

سوال ۱۷ - (گزینه ۴)

برای حل این سوال، نسبت جرم به درخشندگی را برای اجرام داده شده حساب می‌کنیم.
جرم و درخشندگی را در هر مورد برحسب جرم و درخشندگی خورشید محاسبه می‌کنیم:

WD: کوتوله ی سفید به جرم خورشید و دمای سطحی ۲۰۰۰۰ کلوین

جرم کوتوله سفید را ۱.۴۴ برابر جرم خورشید و شعاع آن را به اندازه‌ی شعاع زمین در نظر می‌گیریم.

$$\left(\frac{M}{L}\right)_{WD} = \frac{1.44M_{\odot}}{\left(\frac{6371 \times 10^3}{6.96 \times 10^8}\right)^2 \left(\frac{20000}{5777}\right)^4} \rightarrow \left(\frac{M}{L}\right)_{WD} \approx 120 \frac{M_{\odot}}{L_{\odot}}$$

SS: منظومه ی شمسی

با توجه به اینکه بیش از ۹۹ درصد جرم و درخشندگی منظومه شمسی مربوط به خورشید است، در نتیجه:

$$\left(\frac{M}{L}\right)_{SS} = \frac{M_{\odot}}{L_{\odot}}$$

GS: ستاره ای به جرم خورشید در شاخه ی غول قرمز

جرم غول قرمز برابر جرم خورشید، با تقریب زدن دمای ثابت می‌توانیم بنویسیم شعاع غول سرخ ۱۰ برابر شعاع خورشید است:

$$\left(\frac{M}{L}\right)_{GS} = \frac{M_{\odot}}{\left(\frac{10R_{\odot}}{R_{\odot}}\right)^2} \rightarrow \left(\frac{M}{L}\right)_{GS} = 0.01 \frac{M_{\odot}}{L_{\odot}}$$

G: کهکشانی با درخشندگی ۲۰ میلیارد برابر خورشید و سرعت دورانی ۲۰۰ کیلومتر برثانیه در فاصله ۱۰ کیلوپارسک از مرکز کهکشان

جرم کهکشان را با توجه به سرعت چرخش کهکشان محاسبه می‌کنیم:

$$v^2 = \frac{GM}{r} \rightarrow M = \frac{v^2 r}{G} \rightarrow \frac{M}{M_{\odot}} = \frac{v^2 r}{G M_{\odot}} \rightarrow M = \frac{v^2 r}{G M_{\odot}} M_{\odot}$$

$$M_G = \frac{(200 \times 10^3)^2 \times 10 \times 10^3 \times 3.09 \times 10^{16}}{6.67 \times 10^{-11} \times 1.99 \times 10^{30}} \rightarrow M_G = 9.3 \times 10^{10} M_{\odot}$$

پس نسبت خواسته شده برابر است با:

$$\left(\frac{M}{L}\right)_G = \frac{9.3 \times 10^{10} M_{\odot}}{20 \times 10^9 \times L_{\odot}} \rightarrow \left(\frac{M}{L}\right)_G = 4.6 \frac{M_{\odot}}{L_{\odot}}$$

با مقایسه‌ی چهار نسبت بدست آمده داریم:

$$\left(\frac{M}{L}\right)_{WD} > \left(\frac{M}{L}\right)_G > \left(\frac{M}{L}\right)_{SS} > \left(\frac{M}{L}\right)_{GS}$$

پس گزینه صحیح برابر است با:

$$WD > G > SS > GS$$

محاسبات سوال ۱۷:

$\frac{1.44}{\left(\frac{6371 \cdot 10^3}{6.96 \cdot 10^8}\right)^2 \cdot \left(\frac{20000}{5777}\right)^4}$	$= 119.6341721$
$\frac{1}{10^2}$	$= 0.01$ <input type="radio"/>
$\frac{(200 \cdot 10^3)^2 \cdot 10 \cdot 10^3 \cdot 3.09 \cdot 10^{16}}{6.67 \cdot 10^{-11} \cdot 1.99 \cdot 10^{30}}$	$= 9.31192695 \times 10^{10}$
$\frac{\boxed{9.31192695 \times 10^{10}}}{20 \cdot 10^9}$	$= 4.655963476$ <input type="radio"/>

سوال ۱۸ - (گزینه ۲)

برای حل این سوال ابتدا زاویه ساعتی ستاره را در لحظه‌ای که پیام ارسال شده، از دید ناظر سنگاپور بدست می‌آوریم:
با نوشتن یک رابطه‌ی کسینوس‌ها در مثلث PZX داریم:

$$\cos(90 - a) = \cos(90 - \varphi) \cos(90 - \delta) + \sin(90 - \varphi) \sin(90 - \delta) \cos(H)$$

$$\sin(a) = \sin(\varphi) \sin(\delta) + \cos(\varphi) \cos(\delta) \cos(H)$$

$$\cos H = \frac{\sin(a) - \sin(\varphi) \sin(\delta)}{\cos(\varphi) \cos(\delta)} \rightarrow H = 20.96$$

در این لحظه زاویه ساعتی ستاره از دید ناظر در رصدخانه مراغه را محاسبه می‌کنیم:

$$\Delta H = \Delta l \rightarrow H_{\text{سنگاپور}} - H_{\text{مراغه}} = l_{\text{سنگاپور}} - l_{\text{مراغه}} \rightarrow H_{\text{مراغه}} = H_{\text{سنگاپور}} - l_{\text{سنگاپور}} + l_{\text{مراغه}}$$

$$H_{\text{مراغه}} = 20.96 - 104 + 46 \rightarrow H_{\text{مراغه}} = -37.04$$

حال باید ببینیم پس از چه مدت زمانی بعد از لحظه‌ی ارسال پیام ستاره را رصد می‌کند. برای راحتی و دوری از پیچیدگی تمامی زمان‌ها را به زمان میانگین گرینویچ (GMT) تبدیل می‌کنیم.

ساعت ارسال پیام:

$$GMT_1 = ZT_{\text{سنگاپور}} - 8^h \rightarrow GMT_1 = 00:30 - 8^h \rightarrow GMT_1 = -7:30 \xrightarrow{+24^h} GMT_1 = 16:30$$

لحظه‌ی مشاهده‌ی ستاره توسط ناظر مراغه:

(نکته: می‌دانیم که مراغه و تهران هر دو در ایران هستند و منطقه‌ی زمانی هر دو یکی است)

$$GMT_2 = ZT_{\text{مراغه}} - 3.5 \rightarrow GMT_2 = 5:00 - 3.5^h \rightarrow GMT_2 = 1.5 \xrightarrow{+24^h} GMT_2 = 01:30$$

پس می‌توانیم مدت زمان گذشته بین ارسال پیام تا رصد ستاره را محاسبه کنیم:

$$\Delta t = GMT_2 - GMT_1 \rightarrow \Delta t = 01:30 - 16:30 = -15 \xrightarrow{+24^h} \Delta t = 9^h$$

حال برای بدست آوردن مختصات ستاره باید زاویه ساعتی نهایی ستاره را محاسبه کنیم:

$$\Delta H = \omega \cdot \Delta t \rightarrow H_2 - H_1 = \omega \cdot \Delta t \rightarrow H_2 = H_1 + \omega \cdot \Delta t \rightarrow H_2 = -37.04 + \frac{360}{86164} \times (9 \times 60 \times 60)$$

$$H_2 = 98.33$$



اکنون کافیت تا در مثلث PZX با داشتن عرض جغرافیایی مراغه، میل ستاره و زاویه ساعتی ستاره، ارتفاع آن را محاسبه کنیم.
برای این کار از رابطه‌ی کسینوس‌ها استفاده می‌کنیم:

$$\cos(90 - a) = \cos(90 - \varphi) \cos(90 - \delta) + \sin(90 - \varphi) \sin(90 - \delta) \cos(H)$$

$$\sin(a) = \sin(\varphi) \sin(\delta) + \cos(\varphi) \cos(\delta) \cos(H)$$

$$\sin(a) = \sin(37) \sin(48) + \cos(37) \cos(48) \cos(98.33) \rightarrow a = 21.7 \rightarrow \mathbf{a \approx 22}$$

محاسبات سوال ۱۸:

$\frac{\sin(40) - \sin(1.4) \sin(48)}{\cos(1.4) \cdot \cos(48)}$	$= 0.9337750678$
$\cos^{-1}\left(\frac{0.9337750678}{\text{ans}}\right)$	$= 20.96885875$
$0.5 - 8$	$= -7.5$ 
$24 - 7.5$	$= 16.5$ 
$1.5 - 16.5$	$= -15$
$\frac{-15}{\text{ans}} + 24$	$= 9$
$-37.04 + \frac{360}{86164} \cdot 9 \cdot 60 \cdot 60$	$= 98.32975999$
$\sin(37) \sin(48) + \cos(37) \cos(48) \cos\left(\frac{98.32975999}{\text{ans}}\right)$	$= 0.3698183484$
$\sin^{-1}\left(\frac{0.3698183484}{\text{ans}}\right)$	$= 21.7044148$

سوال ۱۹ - (گزینه ۱)

با توجه به مقدار اختلاف منظر می توان فاصله ی ستاره را محاسبه کرد:

$$d = \frac{1}{\pi} \rightarrow d = \frac{1}{\pi} \rightarrow d = \frac{1}{0.1} \rightarrow d = 10 \text{ pc}$$

حال برای بدست آوردن درخشندگی ستاره در دو طیف آبی و زرد مقدار قدر ستاره در این دو طیف را با قدر ظاهری خورشید مقایسه می کنیم. چون قرار است از درخشندگی خورشید استفاده کنیم پس قدر متناظر آن باید قدر بلومتریک خورشید باشد:

$$BC = m_{bol} - m_v \rightarrow m_{bol} = m_v + BC \rightarrow m_{bol\odot} = -26.7 + (-0.14) = -26.84$$

از رابطه ی قدر داریم:

$$V - m_{bol\odot} = -2.5 \log \left(\frac{b_v}{b_\odot} \right) \rightarrow V - m_{bol\odot} = -2.5 \log \left(\frac{\frac{L_v}{4\pi d^2}}{\frac{L_\odot}{4\pi d_\odot^2}} \right) \rightarrow$$

$$V - m_{bol\odot} = -2.5 \log \left(\frac{L_v}{L_\odot} \times \left(\frac{d_\odot}{d} \right)^2 \right) \rightarrow \frac{V - m_{bol\odot}}{-2.5} = \log \left(\frac{L_v}{L_\odot} \right) + 2 \log \left(\frac{d_\odot}{d} \right) \rightarrow$$

$$\log \left(\frac{L_v}{L_\odot} \right) = \frac{V - m_{bol\odot}}{-2.5} - 2 \log \left(\frac{d_\odot}{d} \right) \rightarrow \log \left(\frac{L_v}{L_\odot} \right) = \frac{1.2 - (-26.84)}{-2.5} - 2 \log \left(\frac{1}{10 \times 206265} \right)$$

$$\log \left(\frac{L_v}{L_\odot} \right) = 1.41 \rightarrow \frac{L_v}{L_\odot} = 25.87 \text{ (I)}$$

به همین شکل برای باند آبی نیز می توان نوشت:

$$\log \left(\frac{L_B}{L_\odot} \right) = \frac{B - m_{bol}}{-2.5} - 2 \log \left(\frac{d_\odot}{d} \right) \rightarrow \log \left(\frac{L_B}{L_\odot} \right) = \frac{1.5 - (-26.84)}{-2.5} - 2 \log \left(\frac{1}{10 \times 206265} \right)$$



$$\log \left(\frac{L_B}{L_\odot} \right) = 1.29 \rightarrow \frac{L_B}{L_\odot} = 19.62 \text{ (II)}$$

با توجه به اینکه بیشتر درخشندگی ستاره در محدوده ی آبی و زرد است پس درخشندگی کل ستاره را می توانیم با مجموع این درخشندگی ها برابر بگیریم:

$$L_{total} = L_v + L_B$$

و نسبت این را به درخشندگی خورشید محاسبه می کنیم:

$$\frac{L_{total}}{L_\odot} = \frac{L_v + L_B}{L_\odot} = \frac{L_v}{L_\odot} + \frac{L_B}{L_\odot} \xrightarrow{(I),(II)} \frac{L_{total}}{L_\odot} = 25.87 + 19.62 = 45.49 \rightarrow \frac{L_{total}}{L_\odot} \approx 45$$

$-26.7 - 0.14$	$= -26.84$	
$\frac{1.2 - (-26.84)}{-2.5} - 2 \log\left(\frac{1}{10 \cdot 206265}\right)$	$= 1.412851082$	
$10^{\boxed{1.412851082}}$	$= 25.8732558$	
$\frac{1.5 - (-26.84)}{-2.5} - 2 \log\left(\frac{1}{10 \cdot 206265}\right)$	$= 1.292851082$	
$10^{\boxed{1.292851082}}$	$= 19.62687164$	
$25.87 + 19.62$	$= 45.49$	

باشگاه طلايي ها



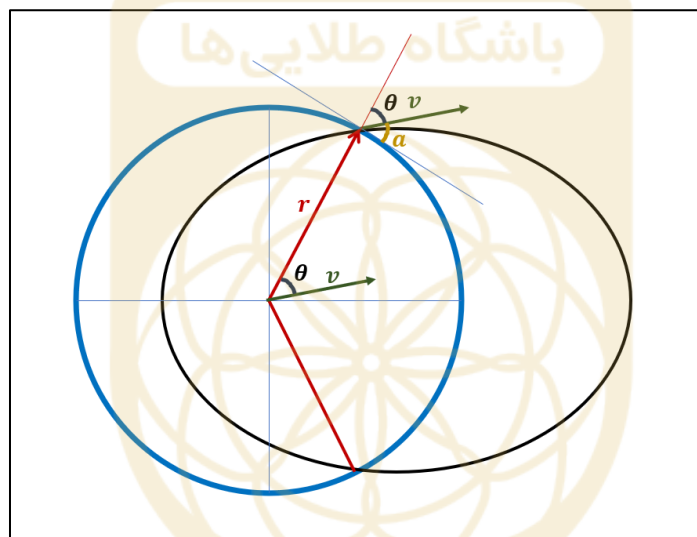
سوال ۲۰ - (گزینه ۲)

چون سرعت پرتابه از سرعت فرار از سطح زمین کمتر است پس پرتابه یک مدار بیضوی خواهد داشت، برای پیدا کردن نقطه‌ی برخورد ابتدا پارامترهای مداری پرتابه را محاسبه می‌کنیم.

ابتدا با توجه به سرعت و فاصله‌ی پرتابه تا مرکز زمین که در اختیار داریم و با استفاده از قانون پایستگی انرژی نیم‌قطر اطول مدار را مشخص می‌کنیم.

$$\frac{1}{2}mv^2 - \frac{GMm}{r} = -\frac{GMm}{2a} \rightarrow \frac{1}{2}v^2 - \frac{GM}{r} = -\frac{GM}{2a} \rightarrow \frac{1}{2a} = \frac{1}{GM} \left(\frac{GM}{r} - \frac{1}{2}v^2 \right)$$

$$a = \frac{2}{\left(\frac{1}{r} - \frac{1}{2} \frac{v^2}{GM} \right)} \rightarrow a = \frac{2}{\left(\frac{1}{R_{\oplus}} - \frac{1}{2} \frac{10000^2}{GM_{\oplus}} \right)} \rightarrow a = 6.37 \times 10^7 \text{ m}$$



حال با استفاده از پایستگی تکانه‌زاویه‌ای واحد جرم و جایگذاری مقادیر در لحظه‌ی پرتاب خروج از مرکز مدار را محاسبه می‌کنیم.

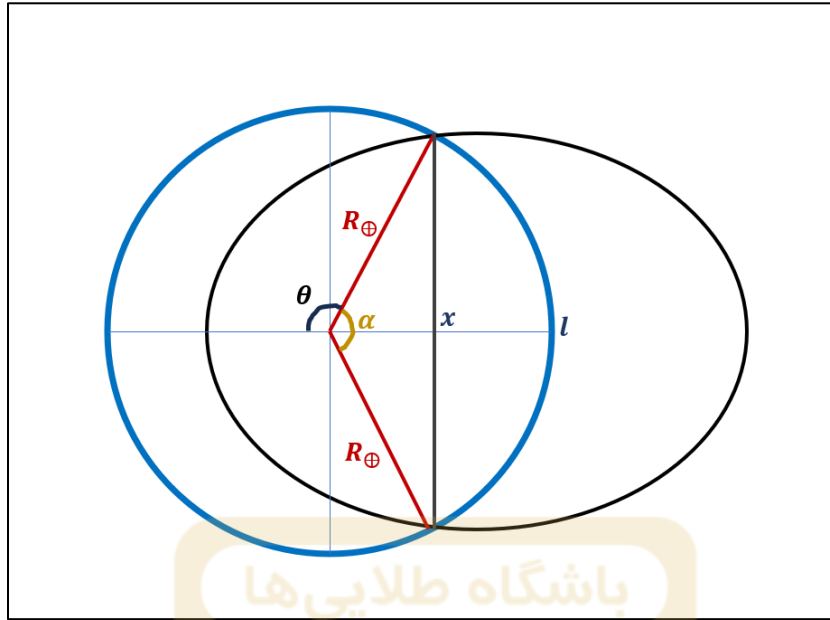
میزان زاویه‌ی θ یعنی زاویه‌ی بین بردار سرعت و بردار شعاع طبق شکل و زاویه‌ی ارتفاع پرتاب که در مسئله داده شده، برابر است با:

$$\theta = 180 - (90 + a) \rightarrow \theta = 90 - a \rightarrow \theta = 45^\circ$$

$$h = \sqrt{GMa(1 - e^2)} = r \cdot v \cdot \sin(\theta)$$

$$(1 - e^2) = \frac{(r \cdot v \cdot \sin(\theta))^2}{GMa} \rightarrow e^2 = 1 - \frac{(r \cdot v \cdot \sin(\theta))^2}{GMa} \rightarrow e = \sqrt{1 - \frac{(r \cdot v \cdot \sin(\theta))^2}{GMa}}$$

$$e = \sqrt{1 - \frac{(R_{\oplus} \cdot 10000 \cdot \sin(45))^2}{GM_{\oplus} a}} \rightarrow e = 0.959$$



حال می‌توانیم با نوشتن معادله‌ی قطبی بیضی با توجه به شکل، زاویه‌ی میان نقطه‌ی پرتاب و برخورد را محاسبه کنیم:

این زاویه را α می‌نامیم و از روی شکل و با توجه به تقارن در بیضی می‌توان نوشت:

$$\alpha = 360 - 2\theta$$

معادله‌ی قطبی بیضی را نوشته و با جایگذاری ثوابت به دست آمده (a, e) و موقعیت کنونی یعنی در فاصله‌ی شعاع زمین تا مرکز می‌توانیم زاویه‌ی θ را محاسبه کنیم:

$$r = \frac{a(1 - e^2)}{1 + e \cos(\theta)} \rightarrow 1 + e \cos(\theta) = \frac{a(1 - e^2)}{r} \rightarrow e \cos(\theta) = \frac{a(1 - e^2)}{r} - 1$$

$$\rightarrow \cos(\theta) = \frac{1}{e} \times \left(\frac{a(1 - e^2)}{r} - 1 \right) \rightarrow \cos(\theta) = \frac{1}{0.959} \times \left(\frac{6.37 \times 10^7 \times (1 - 0.959^2)}{R_{\oplus}} - 1 \right)$$

$$\theta = 102.04$$

بنابراین:

$$\alpha = 360 - 2\theta \rightarrow \alpha = 360 - 2 \times (102.04) \rightarrow \alpha = 155.92$$

حال با توجه به شکل کافیست فاصله‌ی نقطه‌ی پرتاب و برخورد روی سطح زمین یعنی کمان مقابل به این زاویه و سپس کوتاهترین فاصله‌ی بین این دو نقطه که طبق اصول اولیه‌ی هندسه‌ی اقلیدسی خط واصل بین دو نقطه است را محاسبه می‌کنیم.

محاسبه طول کمان:

$$l = r \alpha^{rad} \rightarrow l = R_{\oplus} \times 155.92 \times \frac{\pi}{180} \rightarrow l = 17337 \text{ km}$$

محاسبه خط واصل با استفاده از رابطه‌ی کسینوس‌ها در مثلث‌های مسطحه:

$$c^2 = a^2 + b^2 - 2 a b \cos(\alpha)$$

$$x^2 = R_{\oplus}^2 + R_{\oplus}^2 - 2 \cdot R_{\oplus} \cdot R_{\oplus} \cdot \cos(\alpha) \rightarrow x^2 = 2R_{\oplus}^2 - 2R_{\oplus}^2 \cdot \cos(\alpha)$$

$$x^2 = 2R_{\oplus}^2 (1 - \cos(\alpha)) \rightarrow x = R_{\oplus} \sqrt{2(1 - \cos(\alpha))}$$

$$x = 12461 \text{ km}$$

پاسخ نهایی مسئله برابر اختلاف دو عدد l و x است:

$$l - x = 17337 - 12461 = 4879 \approx \mathbf{4500 \text{ km}}$$

محاسبات سوال ۲۰:

$6.67 \cdot 10^{-11} \cdot 5.97 \cdot 10^{24}$	$= 3.98199 \times 10^{14}$
$\frac{1}{6371 \cdot 10^3} - \frac{1}{2} \cdot \frac{10000^2}{3.98199 \times 10^{14}}$	$= 3.13958726 \times 10^{-8}$
$\frac{2}{3.13958726 \times 10^{-8}}$	$= 63702641.06$
$\sqrt{1 - \frac{(6371 \cdot 10^3 \cdot 10000 \cdot \sin(45))^2}{6.67 \cdot 10^{-11} \cdot 5.97 \cdot 10^{24} \cdot 63702641.06}}$	$= 0.9591626917$
$\frac{1}{0.9591626917} \cdot \left(\frac{6.37 \cdot 10^7 \cdot (1 - 0.9591626917^2)}{6371 \cdot 10^3} - 1 \right)$	$= -0.2085738657$
$\cos^{-1}(-0.2085738657)$	$= 102.0387902$
$360 - 2 \cdot 102.0387902$	$= 155.9224196$
$6371 \cdot 155.92 \cdot \frac{\pi}{180}$	$= 17337.51296$
$6371 \cdot \sqrt{2(1 - \cos(155.92))}$	$= 12461.70419$
$17337 - 12461$	$= 4876$

سوال ۲۱ - (گزینه ۴)

برای حل این سوال ابتدا در این لحظه مقدار LST را باید محاسبه کنیم، با توجه به اینکه مقدار بعد ستاره داده شده است، باید ابتدا زاویه ساعتی ستاره را محاسبه کنیم. در مثلث PZX و با استفاده از رابطه‌ی سینوس‌ها داریم:

$$\frac{\sin(A)}{\sin(90 - \delta)} = \frac{\sin(H)}{\sin(90 - a)} \rightarrow \frac{\sin(A)}{\cos(\delta)} = \frac{\sin(H)}{\cos(a)} \rightarrow \sin(H) = \frac{\sin(A) \cos(a)}{\cos(\delta)}$$

$$\sin(H) = \frac{\sin(135) \cos(30)}{\cos(46)} \rightarrow H = 61.83^\circ$$

مقدار LST را حساب می‌کنیم:

$$\alpha = 5:17 \rightarrow \alpha = 5.283^h \rightarrow \alpha = 79.25^\circ$$

$$LST = H + \alpha \rightarrow LST = 61.83 + 79.25 = 141.08$$

از طرفی LST برابر است با:

$$LST = HAMS + RAMS$$

مقدار $HAMS$ با استفاده از زمان محلی (LMT) بدست می‌آید:

$$LMT = HAMS + 12:00 \rightarrow HAMS = LMT - 12:00 \rightarrow HAMS = 1:00 - 12:00$$

$$HAMS = -11:00 \xrightarrow{+24^h} HAMS = 13^h \xrightarrow{\times 15} 195^\circ$$

با داشتن LST و $HAMS$ می‌توان $RAMS$ (بعد خورشید میانگین) را حساب کرد:

$$LST = HAMS + RAMS \rightarrow RAMS = LST - HAMS$$

$$RAMS = 141.08 - 195 = -53.92 \xrightarrow{+360^\circ} RAMS = 306.08$$






با توجه به رابطه‌ی بین بعد خورشید میانگین و روزهای گذشته از سال می‌توان تاریخ را محاسبه کرد:


$$RAMS = \frac{t}{365.25} \times 360 \rightarrow t = RAMS \times \frac{365.25}{360} \rightarrow t = 306.08 \times \frac{365.25}{360} \rightarrow t = 310.54 \text{ days}$$

از ابتدای سال حدود ۳۱۱ روز گذشته است، کفایت با کم کردن ماهها تاریخ را بدست آوریم:

$$311 - (6 \times 31) - (3 \times 30) - 30 = 5$$

یعنی روز ۵ بهمن.

$\frac{\sin(135) \cdot \cos(30)}{\cos(46)}$	= 0.8815447445
$\sin^{-1}\left(\frac{0.8815447445}{\text{ans}}\right)$	= 61.82927014
$\left(5 + \frac{17}{60}\right) \cdot 15$	= 79.25 
61.83 + 79.25	= 141.08 
$(24 - 11) \cdot 15$	= 195
$(141.08 - 195)$	= -53.92 
$\frac{-53.92}{\text{ans}} + 360$	= 306.08 
$\frac{306.08}{\text{ans}} \cdot \frac{365.25}{360}$	= 310.5436667 
$311 - (6 \cdot 31) - (3 \cdot 30) - 30$	= 5



سوال ۲۲ - (گزینه ۳)

برای محاسبه‌ی توان ساطع شده به محیط بیرون باید توان کل را در درصدی از سطح لامپ که کدر نیست ضرب کنیم. ابتدا مساحت عرقچین کدر را محاسبه می‌کنیم. برای آن باید زاویه‌ی عرقچین را با توجه به شکل محاسبه کنیم:

$$\sin(\theta) = \frac{r}{R} \rightarrow \sin(\theta) = \frac{3}{5} \rightarrow \theta = 36.87$$

مساحت عرقچین که در انتهای جدول ثوابت نیز نوشته شده برابر است با:

$$S_{\text{کدر}} = 2\pi R^2(1 - \cos(\theta))$$

مساحت قسمت غیر کدر تفاضل مساحت کل کره از عرقچین کدر است:

$$S_{\text{غیر کدر}} = S_{\text{کره}} - S_{\text{کدر}} \rightarrow S_{\text{غیر کدر}} = 4\pi R^2 - 2\pi R^2(1 - \cos(\theta))$$

پس درصد قسمت شفاف برابر است با:

$$\frac{S_{\text{غیر کدر}}}{S_{\text{کره}}} = \frac{4\pi R^2 - 2\pi R^2(1 - \cos(\theta))}{4\pi R^2} = 1 - \frac{1}{2}(1 - \cos(\theta)) \rightarrow \frac{S_{\text{غیر کدر}}}{S_{\text{کره}}} = 1 - \frac{1}{2}(1 - \cos(36.87))$$

$$\frac{S_{\text{غیر کدر}}}{S_{\text{کره}}} = 0.9$$

پس توان تابشی ساطع شده به محیط برابر است با:

$$L' = L \times \frac{S_{\text{غیر کدر}}}{S_{\text{کره}}} \rightarrow L' = 100 \times 0.9 = \mathbf{90 \text{ w}}$$

محاسبات سوال ۲۲:

$\frac{3}{5}$	= 0.6
$\sin^{-1}\left(\frac{0.6}{\text{ans}}\right)$	= 36.86989765
$1 - \frac{1}{2}\left(1 - \cos\left(\frac{36.86989765}{\text{ans}}\right)\right)$	= 0.9
$100 \cdot 0.9$	= 90

سوال ۲۳ - (گزینه ۴)

نسبت‌های کانونی تلسکوپ‌ها با هم برابر است:

$$\frac{f_1}{D_1} = \frac{f_2}{D_2} = \frac{f_3}{D_3}$$

از این فرض می‌توان نتیجه گرفت که:

تلسکوپی که فاصله کانونی (f) بیشتر (کمتر) دارد قطر دهانه‌ی (D) بزرگتر (کوچکتر)ی دارد.

تلسکوپی که قطر دهانه‌ی (D) بزرگتری (کوچکتر) دارد، فاصله کانونی (f) بیشتر (کمتر)ی دارد

ابتدا فرض‌های گفته شده در سوال را بررسی می‌کنیم:

۱. با تلسکوپ ۱ نمی‌توان دو چراغ را از همدیگر تشخیص داد.

• با توجه به رابطه‌ی توان تفکیک این تلسکوپ توان تفکیک پایین در نتیجه قطر دهانه‌ی به نسبت کوچکی دارد.

$$\theta^{rad} = 1.22 \frac{\lambda}{D}$$

۲. با تلسکوپ ۲ نمی‌توان دو چراغ را کاملاً با هم در دایره میدان دید پشت تلسکوپ دید.

• چون یک چشمی برای تلسکوپ‌ها استفاده می‌شود پس تلسکوپی که میدان دید کمتری داشته باشد یعنی بزرگنمایی بیشتری دارد و تلسکوپی که بزرگنمایی بیشتری دارد پس فاصله‌ی کانونی بیشتری دارد. این تحلیل با توجه به روابط مربوط به تلسکوپ‌ها به راحتی قابل استنتاج است:

$$m = \frac{f_o}{f_e} : \text{بزرگنمایی}$$

$$FOV_{Telescope} = \frac{FOV_{eyepiece}}{m}$$

پس تلسکوپ ۲ فاصله‌ی کانونی به نسبت زیادی دارد.

۳. با تلسکوپ ۳ چراغ‌ها پرنورتر از تلسکوپ ۲ دیده می‌شوند.

• با توجه به مفهوم LGP (توان گردآوری نور) با تلسکوپی که قطر دهانه‌ی بیشتری داشته باشد اجرام را پرنورتر می‌توان دید. پس از این عبارت و با توجه به فرض ثابت بودن نسبت کانونی‌ها می‌توان نتیجه گرفت که:

$$D_3 > D_2 \rightarrow f_3 > f_2$$

۴. با تلسکوپ ۳ چراغ‌ها کوچکتر از تلسکوپ ۱ دیده می‌شوند.

• این عبارت یعنی بزرگنمایی تلسکوپ ۳ کمتر از تلسکوپ ۱ است پس فاصله کانونی تلسکوپ ۳ کمتر از تلسکوپ ۱ است:

$$f_3 < f_1 \rightarrow D_3 < D_1$$

از ترکیب عبارات ۳ و ۴ می‌توان این نتیجه را گرفت:

$$f_1 > f_3 > f_2 \rightarrow D_1 > D_3 > D_2$$

حال به بررسی گزینه‌ها می‌پردازیم:

گزینه ۱: با تلسکوپ ۲ چراغ‌ها بزرگتر از تلسکوپ ۱ دیده می‌شوند.

این گزینه یعنی بزرگنمایی تلسکوپ ۲ بزرگتر از تلسکوپ ۱ است و یعنی: $f_2 > f_1$ که این با نتیجه‌ی نهایی که گرفتیم در تناقض است. پس گزینه ۱ صحیح نیست.

گزینه ۲: با تلسکوپ ۳ می‌توان دو چراغ را کاملاً با هم در یک دایره میدان دید پشت تلسکوپ دید.

با توجه به فرض دوم، وقتی نمی‌توان با تلسکوپ ۲، دو چراغ را در یک میدان دید قرار داد پس با تلسکوپی که بزرگنمایی بیشتری دارد نیز نمی‌توان دو چراغ را کامل در میدان دید قرار داد. با توجه به اینکه $f_3 > f_2$ مشخص است که تلسکوپ ۳ بزرگنمایی بیشتری از تلسکوپ ۲ دارد پس نمی‌توان دو چراغ را در یک میدان دید با این تلسکوپ دید. پس گزینه ۲ صحیح نیست.

گزینه ۳: با تلسکوپ ۳ چراغ‌ها پر نورتر از تلسکوپ ۱ دیده می‌شوند.

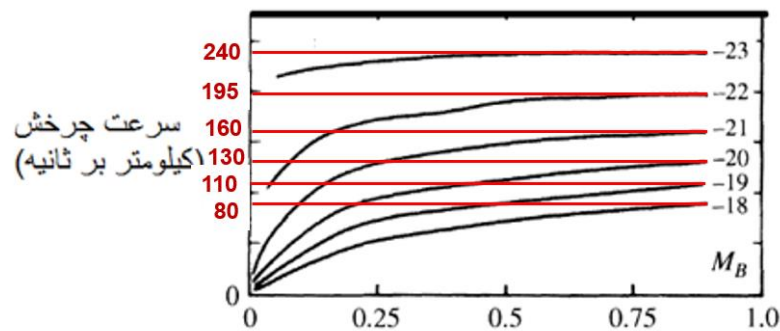
این گزینه به این معناست که: $D_3 > D_1$ که با نتیجه‌ای که در مورد اندازه دهانه‌ها گرفتیم در تناقض است. پس گزینه ۳ صحیح نیست.

گزینه ۴: با تلسکوپ ۳ نمی‌توان دو چراغ را از همدیگر تشخیص داد.

با توجه به فرض اول، تلسکوپی که دهانه‌ی کوچکتری از تلسکوپ ۱ داشته باشد نمی‌تواند این دو چراغ را تفکیک کند و ما نمی‌توانیم دو چراغ را از هم تشخیص دهیم. با توجه به ابعاد دهانه که نتیجه گرفتیم ($D_1 > D_3$) دهانه تلسکوپ ۳ از دهانه تلسکوپ ۱ کوچکتر است پس نمی‌تواند تفکیک کند. پس گزینه ۴ صحیح است.

سوال ۲۴ - (گزینه ۱)

بیشترین سرعت چرخش دوران هر کهکشان (V_{Max}) را که قدر مطلق آبی (M_B) آن هم در نمودار نوشته شده است را می‌خوانیم:



V_{Max}	$\log(V_{Max})$	M_B
240	2.38	-23
195	2.29	-22
160	2.20	-21
130	2.11	-20
110	2.04	-19
80	1.90	-18
	X	Y

حال باید با توجه به داده‌های به دست آمده یک خط به داده‌ها برازش کنیم (رگرسیون) تا مقادیر A و B بدست آیند:

$$M_B = A \log(V_{Max}) + B$$

که اگر داده‌ها را به X و Y تغییر نام دهیم می‌توان نوشت:

$$Y = AX + B$$

برای بدست آوردن رگرسیون یا شیب و عرض از مبدا می‌توان هم از قسمت محاسبات آماری ماشین حساب استفاده کرد و هم می‌توان از روابط زیر شیب و عرض از مبدا را حساب کرد:

$$A = \frac{\bar{x}\bar{y} - \bar{x}\bar{y}}{\bar{x}^2 - \bar{x}^2}, \quad B = \bar{y} - A\bar{x}$$

در نهایت مقادیر A و B به صورت زیر به دست خواهند آمد:

$$A = -10.7, \quad B = 2.7$$

و با توجه به گزینه‌ها می‌توانیم نزدیکترین رابطه را به صورت زیر بنویسیم:

$$M_B = -10.2 \log(V_{Max}) + 2$$

سوال ۲۵ - (گزینه ۲)

با توجه به قضیه‌ی ویريال داریم:

$$2K + U = 0$$

اگر خوشه n ستاره داشته باشد برای محاسبه‌ی پتانسیل خوشه تعداد جفت (دو به دو) ستارگان را برابر $\frac{n(n-1)}{2}$ در نظر می‌گیریم.

$$\binom{n}{2} = \frac{n!}{2!(n-2)!} = \frac{n(n-1)(n-2) \dots 1}{2(n-2)(n-3) \dots 1} = \frac{n(n-1)}{2}$$

با توجه به اینکه بیشترین فاصله‌ی بین ۲ ستاره در خوشه $2R$ و کمترین فاصله بین ۲ ستاره 0 است پس فاصله‌ی هر دو ستاره را به طور میانگین R در نظر می‌گیریم. در نهایت پتانسیل کل خوشه را می‌توان به صورت زیر نوشت:

$$U = -\frac{G \cdot m \cdot m}{R} \times \frac{n(n-1)}{2}$$

انرژی جنبشی کل خوشه نیز برابر است با:

$$K = \frac{1}{2} m v^2 \times n$$

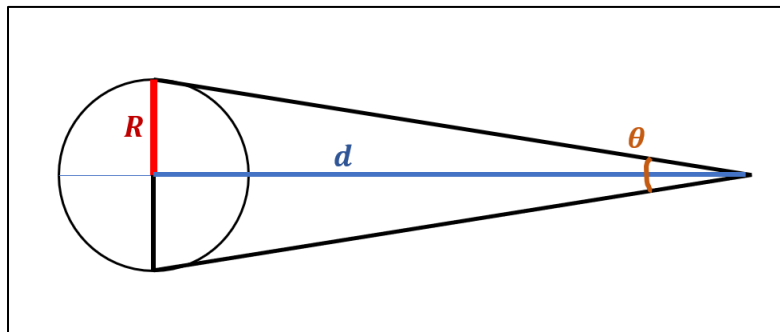
پس طبق قضیه‌ی ویريال داریم:

$$2K + U = 0 \rightarrow 2 \times \frac{1}{2} m v^2 \times n - \frac{G \cdot m \cdot m}{R} \times \frac{n(n-1)}{2} = 0$$

$$n m v^2 - \frac{n(n-1) G m^2}{2R} = 0 \rightarrow n m v^2 = \frac{n(n-1) G m^2}{2R}$$

$$v^2 = \frac{(n-1) G m}{2R} \rightarrow v = \sqrt{\frac{(n-1) G m}{2R}}$$

برای محاسبه‌ی شعاع خوشه چون θ بسیار کوچک است، با توجه به داشتن فاصله و قطر زاویه‌ای خوشه می‌توان نوشت:



$$R = d \times \frac{\theta^{rad}}{2}$$

$$R = d \times \frac{\theta^{arcses}}{2} \times \frac{1}{206265} \rightarrow R = 120 \times \frac{0.1}{2} \times \frac{1}{206265} = 2.91 \times 10^{-5} pc$$

$$R_{(m)} = 2.91 \times 10^{-5} \times 3.09 \times 10^{16} \rightarrow R = 8.99 \times 10^{11} m$$

در نهایت می توان سرعت را محاسبه کرد:

$$v = \sqrt{\frac{(10^6 - 1) G M_{\odot}}{2 \times 8.99 \times 10^{11}}} \rightarrow v = 8.6 \times 10^6 \frac{m}{s} \approx 10^7 \frac{m}{s} = \mathbf{10000 \frac{km}{s}}$$

محاسبات سوال ۲۵:

$120 \cdot \frac{0.1}{2} \cdot \frac{1}{206265}$	$= 2.90887935 \times 10^{-5}$
$\boxed{2.90887935 \times 10^{-5}} \cdot 3.09 \cdot 10^{16}$	$= 8.9884372 \times 10^{11}$
$\sqrt{\frac{(10^6 - 1) \cdot 6.67 \cdot 10^{-11} \cdot 1.99 \cdot 10^{30}}{2 \cdot \boxed{8.9884372 \times 10^{11}}}}$	$= 8592749.394$

سوال ۲۶ - (گزینه ۲)

ابتدا چگالی کهکشان راه شیری را بدست می‌آوریم:

$$\rho = \frac{M}{V} \rightarrow \rho = \frac{n \cdot M_{\odot}}{\pi R^2 h}$$

n : تعداد ستارگان، R : شعاع کهکشان و h : ارتفاع دیسک کهکشان است.

$$\rho = \frac{10^{11} \times M_{\odot}}{\pi \times (25 \times 10^3 \times 3.09 \times 10^{16})^2 \times (300 \times 3.09 \times 10^{16})}$$

$$\rho = 1.14 \times 10^{-20} \frac{kg}{m^3}$$

طبق تعریف سوال تباین چگالی برابر است با:

$$\Delta = \frac{\rho - \rho_{cr}}{\rho_{cr}}$$

حال می‌توان مقدار عددی آن را محاسبه کنیم:

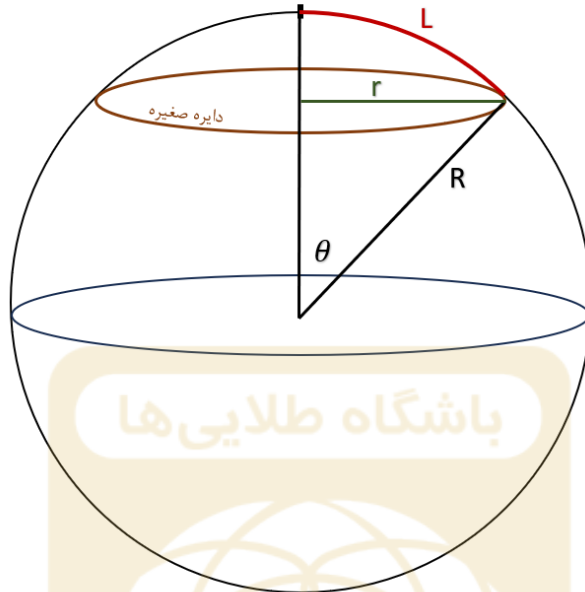
$$\Delta = \frac{1.14 \times 10^{-20} - 10^{-27}}{10^{-27}} \rightarrow \Delta = 1.1 \times 10^7 \rightarrow \Delta \approx 10^7$$

محاسبات سوال ۲۶:

$\frac{10^{11} \cdot 1.99 \cdot 10^{30}}{\pi \cdot (25 \cdot 10^3 \cdot 3.09 \cdot 10^{16})^2 \cdot (300 \cdot 3.09 \cdot 10^{16})}$	$= 1.14505538 \times 10^{-20}$
$\frac{\boxed{1.14505538 \times 10^{-20}} - 10^{-27}}{10^{-27}}$	$= 11450552.85$

سوال ۲۷ - (گزینه ۲)

محیط طناب وقتی دایره روی زمین کروی رسم می‌شود برابر محیط یک دایره **صغیره** است. به این صورت که یک سر طناب روی قطب دایره **صغیره** قرار می‌گیرد و با سر دیگر آن دایره **صغیره** را روی کره رسم می‌کنیم.



شعاع دایره **ی صغیره** که زاویه‌ی عرق چین متناظر آن θ باشد از رابطه‌ی زیر بدست می‌آید:

$$\sin(\theta) = \frac{r}{R} \rightarrow r = R \sin(\theta)$$

چون زاویه‌ی θ زاویه‌ی مرکزی کمان به طول L است پس می‌توانیم بنویسیم:

$$L = R \theta \rightarrow \theta = \frac{L}{R}$$

با ترکیب دو رابطه‌ی قبل شعاع دایره **صغیره** را می‌توان به صورت زیر نوشت:

$$r = R \sin\left(\frac{L}{R}\right)$$

بنابراین محیط دایره **صغیره** برابر است با:

$$2\pi r = 2\pi R \sin\left(\frac{L}{R}\right)$$

اگر زمین تخت باشد محیط دایره به شعاع L برابر است با:

$$2\pi L$$

حال طبق خواسته‌ی سوال اختلاف دو محیط در دو حالت قبل باید ۱ کیلومتر باشد، پس مقدار مرزی برای L را محاسبه می‌کنیم:

$$2\pi L - 2\pi R \sin\left(\frac{L}{R}\right) = 1$$

برای بدست آوردن مقدار L از معادله‌ی بالا می‌توانیم از بسط سینوس که بعد از جدول ثوابت آمده، استفاده کنیم:

$$\sin(x) \approx x - \frac{x^3}{3}$$

بنابراین:

$$2\pi L - 2\pi R \left(\frac{L}{R} - \frac{L^3}{3R^3} \right) = 1 \rightarrow L - R \left(\frac{L}{R} - \frac{\left(\frac{L}{R}\right)^3}{3} \right) = \frac{1}{2\pi}$$

$$L - R \frac{L}{R} + R \frac{L^3}{3R^3} = \frac{1}{2\pi} \rightarrow L - L + \frac{L^3}{3R^2} = \frac{1}{2\pi} \rightarrow 1 + \frac{L^3}{3R^2} = \frac{1}{2\pi}$$

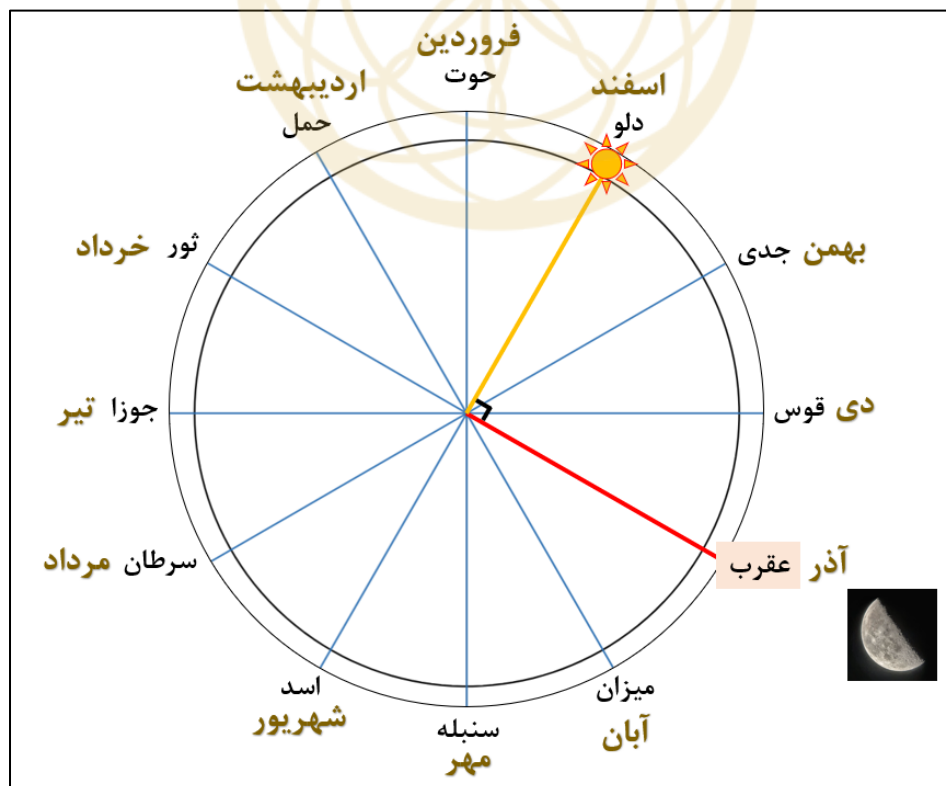
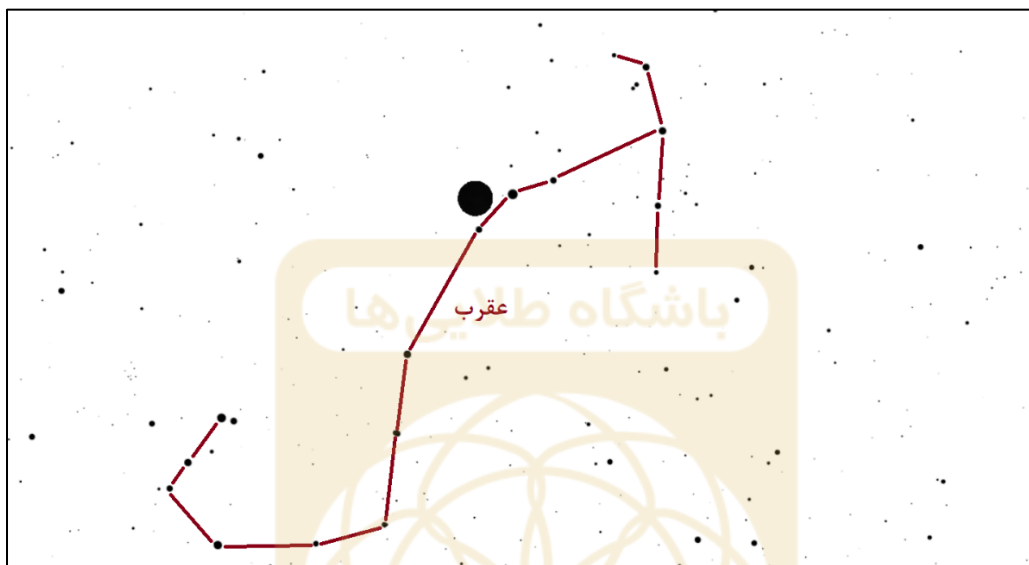
$$\frac{L^3}{3R^2} = \frac{1}{2\pi} - 1 \rightarrow L = \sqrt[3]{\frac{3R^2}{2\pi}} \rightarrow L = \sqrt[3]{\frac{3R_{\oplus}^2}{2\pi}} \rightarrow L = 268.6 \text{ Km} \approx \mathbf{300 \text{ km}}$$

محاسبات سوال ۲۷:

$\sqrt[3]{\frac{3 \cdot 6371^2}{2 \cdot \pi}}$	$= 268.607952$
--	----------------

سوال ۲۸ - (گزینه ۴)

در شکل سمت راست مشخص است که ماه در صورت فلکی عقرب قرار دارد. در شکل دوم مشخص است که نیمه‌ی سمت چپ ماه از دید ما روشن است و عوارض سطحی ماه مخصوصاً وجود دهانه‌های برخوردی کپرنیک و کپلر اثباتی دیگر بر این ادعا است. پس مشخص می‌شود ماه در تربیع دوم قرار دارد. پس خورشید روی دایره البروج و در آن صورت فلکی قرار دارد که طول دایره البروجی آن ۹۰ درجه از ماه بیشتر است. ۹۰ درجه حدوداً معادل ۳ صورت فلکی روی دایره البروج است و مطابق شکل زیر خورشید در صورت فلکی دلو قرار دارد. با توجه به گزینه‌ها تاریخ رصد در اسفند ماه می‌باشد.



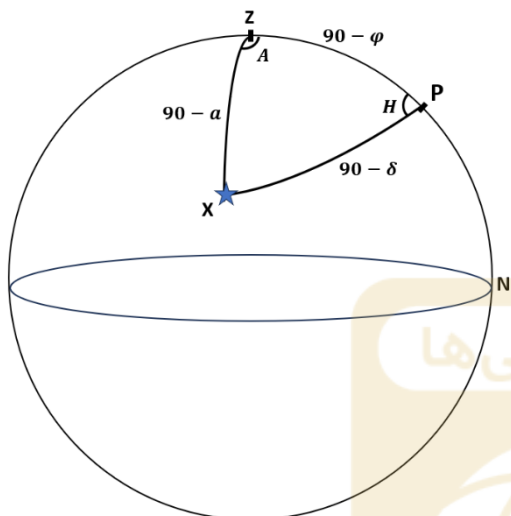
سوال ۲۹ - (گزینه ۱)

وقتی در یک مثلث کروی یک ضلع و زاویه‌ی مقابل به آن مجهول باشند برای حل آن دو روش وجود دارد.

۱. نوشتن رابطه‌ی کسینوس‌ها، تبدیل سینوس مجهول به کسینوس مجهول با استفاده از اتحاد مثلثاتی، ایجاد یک معادله درجه ۲ و حل آن.

۲. زاویه دیگر مجهول را با استفاده از رابطه‌ی سینوس‌ها بدست می‌آوریم و با نوشتن ۲ رابطه‌ی کسینوس‌ها برای دو ضلع و حل دو معادله ۲ مجهول ضلع مورد نظر را محاسبه می‌کنیم.

در اینجا از روش دوم استفاده می‌کنیم.



رابطه‌ی سینوس‌ها در مثلث PZX را می‌نویسیم:

$$\frac{\sin(A)}{\sin(90 - \delta)} = \frac{\sin(H)}{\sin(90 - a)} \rightarrow \frac{\sin(A)}{\cos(\delta)} = \frac{\sin(H)}{\cos(a)}$$

$$\rightarrow \sin(H) = \frac{\sin(A) \cos(a)}{\cos(\delta)}$$

$$\sin(H) = \frac{\sin(45) \cos(60)}{\cos(46)} \rightarrow H = 59.4^\circ$$

سپس ۲ رابطه‌ی کسینوس‌ها در مثلث PZX را برای دو ضلع دیگر می‌نویسیم:

$$\cos(90 - a) = \cos(90 - \varphi) \cos(90 - \delta) + \sin(90 - \varphi) \sin(90 - \delta) \cos(H)$$

$$\sin(a) = \sin(\varphi) \sin(\delta) + \cos(\varphi) \cos(\delta) \cos(H) \quad (I)$$

$$\cos(90 - \delta) = \cos(90 - \varphi) \cos(90 - a) + \sin(90 - \varphi) \sin(90 - a) \cos(A)$$

$$\sin(\delta) = \sin(\varphi) \sin(a) + \cos(\varphi) \cos(a) \cos(A) \quad (II)$$

از تغییر متغیر زیر استفاده می‌کنیم:

$$X = \sin(\varphi) \quad , \quad Y = \cos(\varphi)$$

پس روابط فوق را می‌توان به صورت زیر نوشت:

$$\sin(\delta) X + \cos(\delta) \cos(H) Y = \sin(a)$$

$$\sin(a) X + \cos(a) \cos(A) Y = \sin(\delta)$$

با حل دو معادله دو مجهول فوق مقادیر X و Y به صورت زیر بدست می‌آیند:

$$X = 0.47035, Y = 0.88248$$

در نتیجه:

$$\cos(\varphi) = 0.88248 \rightarrow \varphi = 28^\circ$$

$$\sin(\varphi) = 0.47035 \rightarrow \varphi = 28^\circ$$

Equation 1) a= b= c=

Equation 2) a= b= c=

ENTER

X= **Y=**

RESET

$\frac{\sin(45)}{\cos(46)} \cdot \cos(60)$	= 0.5089600955
$\sin^{-1}\left(\overset{\text{ans}}{0.5089600955}\right)$	= 30.59458703
$\sin^{-1}(0.4703514315765819)$	= 28.05711114
$\cos^{-1}(0.8824791958903148)$	= 28.05711111

سوال ۳۰ - (گزینه ۱)

در این سوال با توجه به نمودارهای گزینه‌ها باید تابع a بر حسب t را محاسبه کنیم. طبق داده‌ی سوال یک معادله‌ی دیفرانسیل داریم:

$$\frac{da}{dt} = \sqrt{\frac{8\pi G\rho}{3}}$$

از طرفی طبق سوال داریم:

$$\rho = \rho_0 a^{-2}$$

با جایگذاری ρ معادله‌ی اول را می‌توان به صورت زیر نوشت:

$$\frac{da}{dt} = \sqrt{\frac{8\pi G\rho_0 a^{-2}}{3}} \rightarrow \frac{da}{dt} = \frac{1}{a} \sqrt{\frac{8\pi G\rho_0}{3}}$$

که مقدار رادیکال ثابت (k) است و مثبت است $(k > 0)$ پس به طور خلاصه معادله دیفرانسیل فوق را به صورت زیر می‌نویسیم:

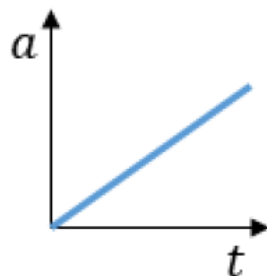
$$\frac{da}{dt} = \frac{k}{a} \rightarrow \frac{da}{dt} = k$$

بنابراین تابعی داریم که آهنگ تغییرات آن $\frac{da}{dt}$ ثابت و مثبت است که بین گزینه‌ها تنها تابع خطی (شیب ثابت) و با شیب مثبت در گزینه ۱ وجود دارد.

راه دوم: (حل معادله دیفرانسیل):

$$\frac{da}{dt} = k \rightarrow da = k dt \rightarrow \int da = \int k dt \rightarrow a = kt + c$$

چون k یک مقدار مثبت است بنابراین شکل تابع فوق یک خط با شیب مثبت خواهد بود.



سوال ۱ مسئله‌های کوتاه - (پاسخ نهایی = 31)

رابطه‌ی طول پویس آزاد به شکل زیر است:

$$l = \frac{kT}{\frac{\pi D^2}{4} P}$$

اطلاعات مربوط به دما و فشار در نزدیکی سطح سیاره در جدول ثوابت آمده است.

در نظر داشته باشید جو زمین بیشتر از نیتروژن و جو زهره بیشتر از کربن‌دی‌اکسید تشکیل شده است.

$$\frac{l_e}{l_v} = \frac{\frac{4kT_e}{\pi D_{N_2}^2 P_e}}{\frac{4kT_v}{\pi D_{CO_2}^2 P_v}} \rightarrow \frac{l_e}{l_v} = \frac{T_e}{T_v} \cdot \frac{P_v}{P_e} \cdot \left(\frac{D_{CO_2}}{D_{N_2}}\right)^2 \rightarrow \frac{l_e}{l_v} = \frac{(30 + 273)}{(480 + 273)} \times \frac{92}{1} \times \left(\frac{3.3 \times 10^{-10}}{3.6 \times 10^{-10}}\right)^2$$

$$\frac{l_e}{l_v} = 31.1 \rightarrow \frac{l_e}{l_v} \approx 31$$

محاسبات سوال ۱ مسئله‌های کوتاه:

$$\frac{(30 + 273)}{(480 + 273)} \cdot \frac{92}{1} \cdot \left(\frac{3.3}{3.6}\right)^2 = 31.10701638$$

سوال ۲ مسئله‌های کوتاه - (پاسخ نهایی = 13)

چون انتقال به سرخ نسبتاً زیادی دارد، ابتدا سرعت شعاعی کوازار را با استفاده از اثر داپلر نسبیتی محاسبه می‌کنیم:

$$1 + z = \sqrt{\frac{1 + \frac{v_r}{c}}{1 - \frac{v_r}{c}}} \rightarrow (1 + z)^2 = \frac{1 + \frac{v_r}{c}}{1 - \frac{v_r}{c}} \rightarrow (1 + z)^2 \left(1 - \frac{v_r}{c}\right) = \left(1 + \frac{v_r}{c}\right)$$

$$\frac{v_r}{c} = \frac{(1 + z)^2 - 1}{(1 + z)^2 + 1} \rightarrow v_r = \frac{(1 + 0.05)^2 - 1}{(1 + 0.05)^2 + 1} \times 3 \times 10^8 \rightarrow v_r = 1.46 \times 10^7 \frac{m}{s}$$

$$v_r = 1.46 \times 10^4 \frac{km}{s}$$

با استفاده از رابطه‌ی هابل فاصله‌ی کوازار را حساب می‌کنیم:

$$v_r = H d \rightarrow d = \frac{v_r}{H} \rightarrow d = \frac{1.46 \times 10^4 \frac{km}{s}}{72 \frac{km}{s.Mpc}} \rightarrow d = 203.1 Mpc$$

با توجه به اینکه قدر ظاهری کوازار داده شده می‌توان قدر مطلق ستاره را محاسبه کرد:

$$m - M = 5 \log \left(\frac{d}{10} \right) \rightarrow M = m - 5 \log \left(\frac{d}{10} \right)$$

$$M = 17 - 5 \log \left(\frac{203131 \times 10^6}{10} \right) \rightarrow M = -19.54$$

با مقایسه‌ی قدر مطلق بلومتریکی خورشید و قدر این کوازار می‌توان درخشندگی کوازار را بدست آورد:

$$M_{bol\odot} = M_{\odot} + BC \rightarrow M_{bol\odot} = 4.83 + (-0.14) \rightarrow M_{bol\odot} = 4.69$$

رابطه‌ی قدر برای قدر مطلق‌های خورشید و کوازار را می‌نویسیم:

$$M_q - M_{bol\odot} = -2.5 \log \left(\frac{L_q}{L_{\odot}} \right) \rightarrow \log \left(\frac{L_q}{L_{\odot}} \right) = \frac{M_q - M_{bol\odot}}{-2.5}$$

$$\frac{L_q}{L_{\odot}} = 10^{\frac{M_q - M_{bol\odot}}{-2.5}} \rightarrow L_q = 10^{\frac{-19.54 - 4.69}{-2.5}} L_{\odot} \rightarrow L_q = 4.92 \times 10^9 L_{\odot}$$

کمترین جرم زمانی خواهد بود که کوازار به مرز واپاشی و تابش ادینگتون رسیده باشد.

$$L_{edd} = \frac{4\pi GMm_H c}{\sigma_H}$$

$$\sigma_H = \pi \frac{D^2}{4}$$

سطح مقطع اتم هیدورژن :

بنابراین جرم مورد نظر در این مرز برابر است با:

$$M = \frac{L_{edd} \sigma_H}{4\pi G m_H c} \rightarrow M = \frac{L_{edd} D^2}{16 G m_H c}$$

$$M = \frac{4.92 \times 10^9 L_{\odot} \times (1.2 \times 10^{-10})^2}{16 \times 6.67 \times 10^{-11} \times 1.67 \times 10^{-27} \times 3 \times 10^8}$$

$$M = 5.1 \times 10^{43} \overset{+M_{\odot}}{\longrightarrow} M = 2.56 \times 10^{13} \rightarrow \text{مرتبه بزرگی} = \mathbf{13}$$

محاسبات سوال ۲ مسئله‌های کوتاه:

$\frac{(1 + 0.05)^2 - 1}{(1 + 0.05)^2 + 1} \cdot 3 \cdot 10^8$	= 14625445.9
$\frac{14625445.9}{\text{ans}} \cdot 10^{-3}$	= 14625.4459 <input type="radio"/>
$\frac{14625.4459}{72}$	= 203.131193 <input type="radio"/>
$17 - 5 \log\left(\frac{203.131193 \cdot 10^6}{10}\right)$	= -19.5388831
$4.83 - 0.14$	= 4.69 <input type="radio"/>
$10^{\frac{-19.54 - 4.69}{-2.5}}$	= 4.92039536×10^9
$\frac{4.92039536 \times 10^9 \cdot 3.85 \cdot 10^{26} \cdot (1.2 \cdot 10^{-10})^2}{16 \cdot 6.67 \cdot 10^{-11} \cdot 1.67 \cdot 10^{-27} \cdot 3 \cdot 10^8}$	= $5.10199089 \times 10^{43}$
$\frac{5.10199089 \times 10^{43}}{1.99 \cdot 10^{30}}$	= $2.56381452 \times 10^{13}$

سوال ۳ مسئله‌های کوتاه - (پاسخ نهایی = 12)

می‌دانیم که در مدت زمان ک.م.م این سه دوره تناوب، دوباره هم‌خط خواهند شد.

$$[T, 3T, 4T] = 12T$$

در یک راه حل کلی باید ببینیم آیا در زمانی کمتر از $12T$ نیز هم‌خط خواهند شد؟

برای اینکار دوره تناوب نسبی سیاره دوم و سوم را حساب می‌کنیم:

$$\frac{1}{S} = \frac{1}{3T} - \frac{1}{4T} \rightarrow S = 12T$$

به این نتیجه می‌رسیم که سیاره دوم و سوم زودتر از $12T$ هم‌خط نخواهند شد پس جواب همان $12T$ است. پس مقدار n برابر ۱۲ است.



سوال ۴ مسئله‌های کوتاه - (پاسخ نهایی = 12)

علت تغییر اندازه‌ی زاویه‌ای ماه در سروسوی ناظر در شب‌های مختلف، بیضی بودن مدار ماه است. نسبت بزرگترین قطر زاویه‌ای به کوچکترین قطر زاویه‌ای زمانی است که ماه به ترتیب در حضيض و اوج قرار داشته باشد.

$$\theta = \frac{R}{d}$$

این نسبت را می‌نویسیم، در نظر داشته باشیم که شعاع زمین را برای محاسبه‌ی فاصله‌ی ناظر تا ماه باید در نظر بگیریم:

$$\frac{\theta_P}{\theta_A} = \frac{\frac{R_m}{d_P - R_{\oplus}}}{\frac{R_m}{d_A - R_{\oplus}}} = \frac{d_A - R_{\oplus}}{d_P - R_{\oplus}}$$

در مدار بیضوی فاصله‌ی حضيض (P) و اوج (A) از روابط زیر بدست می‌آید:

$$d_P = a(1 - e), \quad d_A = a(1 + e)$$

پس نسبت اندازه‌های زاویه‌ای را می‌توان به صورت زیر نوشت:

$$\frac{\theta_P}{\theta_A} = \frac{a(1 + e) - R_{\oplus}}{a(1 - e) - R_{\oplus}} \rightarrow \frac{\theta_P}{\theta_A} = \frac{3.84 \times 10^8(1 + 0.055) - 6371000}{3.84 \times 10^8(1 - 0.055) - 6371000}$$

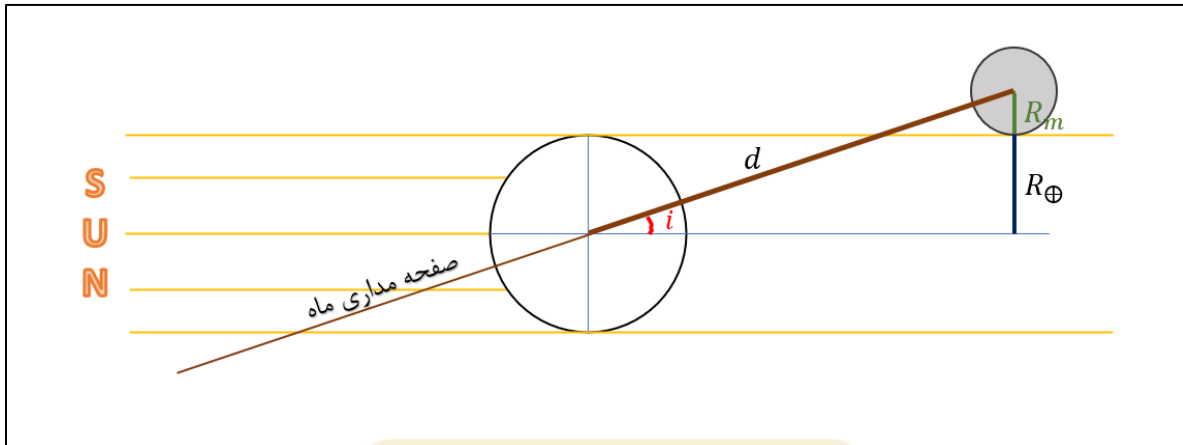
$$\frac{\theta_P}{\theta_A} = 1.1184 \approx 1.12$$

پس ۱۲ درصد از ۱ بیشتر است.

محاسبات سوال ۴:

$$\frac{3.84 \cdot 10^8 \cdot (1 + 0.055) - 6371000}{3.84 \cdot 10^8 \cdot (1 - 0.055) - 6371000} = 1.118482282 \quad \text{⊞}$$

سوال ۵ مسئله‌های کوتاه - (پاسخ نهایی = 39)



اگر زاویه‌ی i از مقدار فوق در شکل بزرگتر باشد، ماه می‌تواند در سایه‌ی زمین قرار نگیرد. با توجه به شکل داریم:

$$\sin(i) = \frac{R_{\oplus} + R_m}{d} \xrightarrow{d = \frac{d_m}{30}} \sin(i) = \frac{R_{\oplus} + R_m}{\frac{d_m}{30}} \rightarrow \sin(i) = \frac{30(R_{\oplus} + R_m)}{d_m}$$

$$\sin(i) = \frac{30 \times (6371 + 1737) \times 10^3}{3.84 \times 10^8} \rightarrow i = 39.3 \rightarrow i \approx 39$$

محاسبات سوال ۵ مسئله‌های کوتاه:

$$\frac{30(6371 + 1737) \cdot 10^3}{3.84 \cdot 10^8} = 0.6334375$$

$$\sin^{-1}\left(\underset{\text{ans}}{0.6334375}\right) = 39.30419286$$

سوال ۶ مسئله‌های کوتاه - (پاسخ نهایی = 46)

با برابر گذاشتن انرژی جنبشی و پتانسیل یک ذره، سرعت فرار آن به دست می‌آید:

$$\frac{1}{2}mv^2 - \frac{GMm}{r} = 0 \rightarrow v_{esc} = \sqrt{\frac{2GM}{r}}$$

باید حساب کنیم تا در چه فاصله‌ای از خورشید، سرعت فرار برابر ۲۰ کیلومتر بر ثانیه است. زیرا ذراتی که داخل این فاصله قرار دارند نمی‌توانند فرار کنند و ذراتی که خارج این فاصله قرار دارند می‌توانند فرار کنند.

$$v_{esc} = \sqrt{\frac{2GM}{r}} \rightarrow v_{esc}^2 = \frac{2GM}{r} \rightarrow r = \frac{2GM_{\odot}}{v_{esc}^2} \rightarrow r = \frac{2 \times 6.67 \times 10^{-11} \times 1.99 \times 10^{30}}{(20 \times 10^3)^2}$$

$$r = 1.33 \times 10^{11} \rightarrow r = 4.42 \text{ AU}$$

برای محاسبه‌ی تعداد ذراتی که نمی‌توانند فرار کنند چون چگالی سطحی این دیسک ثابت است:

$$\sigma = \frac{n}{S}$$

پس تعداد ذرات برابر است با:

$$n = \sigma S$$

پس نسبت ذراتی که فرار نمی‌کنند به کل ذرات برابر است با:

$$\frac{n}{n_{\text{کل}}} = \frac{\sigma S}{\sigma S_{\text{کل}}} = \frac{\pi r^2}{\pi r_{\text{کل}}^2} \rightarrow \frac{n}{n_{\text{کل}}} = \left(\frac{r}{r_{\text{کل}}}\right)^2 \rightarrow \frac{n}{n_{\text{کل}}} = \left(\frac{4.42}{6}\right)^2 = 0.544$$

پس درصد تعداد ذراتی فرار می‌کنند برابر است با:

$$(1 - 0.544) \times 100 = 45.6\% \approx 46\%$$

محاسبات سوال ۶ مسئله‌های کوتاه:

$\frac{2 \cdot 6.67 \cdot 10^{-11} \cdot 1.99 \cdot 10^{30}}{(20 \cdot 10^3)^2}$	$= 6.63665 \times 10^{11}$
$\frac{6.63665 \times 10^{11}}{1.5 \cdot 10^{11}}$	$= 4.424433333$
$\left(\frac{4.424433333}{6}\right)^2$	$= 0.5437669534$
$(1 - 0.5437669534) \cdot 100$	$= 45.62330466$

سوال ۷ مسئله‌های کوتاه - (پاسخ نهایی = 21)

باید ببینیم در شب هفتم ماه قمری فاز ماه (درصد روشن سطح) ماه چقدر است.

فاز از رابطه‌ی زیر بدست می‌آید:

$$\text{فاز: } \frac{1 - \cos(\varphi)}{2}$$

در روز هفتم ماه قمری مقدار زاویه‌ای θ را باید محاسبه کنیم.

$$\theta = \omega t \rightarrow \theta = \frac{360}{29} \times 7 \rightarrow \theta = 86.896^\circ$$

پس فاز ماه برابر است با:

$$\text{فاز: } \frac{1 - \cos(86.896)}{2} = 0.473$$

شار رسیده از ماه رابطه‌ی مستقیم با درصد مساحت روشن از سطح ماه دارد. فاز ماه در حالت کامل برابر ۱ است، بنابراین نسبت شار دریافتی از ماه شب هفتم به ماه کامل برابر است با:

$$\frac{f_{\text{ماه کامل}}}{f} = \frac{1}{0.473} \rightarrow \frac{f_{\text{ماه کامل}}}{f} = 2.11 = A$$

$$10A = 21.1 \approx 21$$

محاسبات سوال ۷ مسئله‌های کوتاه:

$\frac{360}{29} \cdot 7$	$= 86.89655172$
$\frac{1 - \cos\left(\frac{86.89655172}{\text{ans}}\right)}{2}$	$= 0.4729305457$
$\frac{1}{\frac{0.4729305457}{\text{ans}}}$	$= 2.11447539$

سوال ۸ مسئله‌های کوتاه - (پاسخ نهایی = 39)

برای حل این سوال باید مساحت قسمت مشترک دو دایره یعنی $OAO'B$ را محاسبه کنیم. برای اینکار ابتدا مساحت ناحیه‌ی قرمز رنگ $AO'B$ را محاسبه می‌کنیم و سپس به دلیل هم‌اندازه بودن ماه و خورشید و تقارن آن را در ۲ ضرب می‌کنیم.

برای محاسبه‌ی مساحت ناحیه‌ی قرمز ابتدا مساحت قطاع OAB که قطاعی از دایره با زاویه راس $O_1 + O_2$ می‌باشد را حساب کرده و مساحت مثلث OAB را از آن کم می‌کنیم.

$$\cos O_1 = \frac{OO'}{2}$$

طبق اطلاعات مسئله OO' فاصله‌ی مراکز ماه و خورشید و برابر ۱۵ دقیقه قوس و OA شعاع خورشید و برابر ۳۰ دقیقه قوس است. در نتیجه:

$$\cos O_1 = \frac{15}{30} \rightarrow O_1 = \cos^{-1}\left(\frac{1}{2}\right) \rightarrow O_1 = 60^\circ$$

(با توجه به اینکه OAO' متساوی‌الضلاع هست نیز می‌توان نتیجه گرفت زاویه O_1 برابر ۶۰ درجه است.)

پس مساحت قطاع دایره به مرکزیت O و زاویه‌ی $O_1 + O_2$ به دست می‌آید:

$$S_{\text{قطاع دایره}} = \frac{O_1 + O_2}{360} \times \pi r_{\odot}^2 \xrightarrow{O_1=O_2} S_{\text{قطاع دایره}} = \frac{2 \cdot O_1}{360} \times \pi r_{\odot}^2 \quad (I)$$

مساحت مثلث OAB از رابطه‌ی زیر بدست می‌آید:

$$S_{OAB} = \frac{OM \times AB}{2}$$

$$\frac{AB}{2} = OA \cdot \sin(O_1) \xrightarrow{OA=r_{\odot}} AB = 2 \cdot r_{\odot} \cdot \sin(O_1) \quad \text{و} \quad OM = \frac{OO'}{2} \rightarrow OM = \frac{r_{\odot}}{2}$$

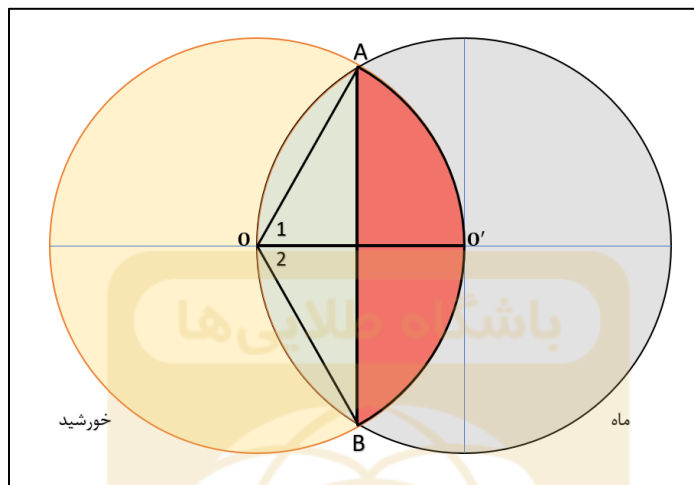
$$S_{OAB} = \frac{r_{\odot}^2 \cdot \sin(O_1)}{2} \quad (II)$$

مساحت قرمز رنگ با کم کردن مساحت‌های محاسبه شده در قسمت II و I بدست می‌آید. و مساحت قسمت مشترک دوبرابر این مقدار خواهد بود.

$$S_{\text{ناحیه مشترک}} = 2 \left[\frac{2 \cdot O_1}{360} \times \pi r_{\odot}^2 - \frac{r_{\odot}^2 \cdot \sin(O_1)}{2} \right]$$

برای محاسبه‌ی درصد گرفت، کفایت تا نسبت مساحت‌ها را محاسبه کنیم و برای اینکار مساحت ناحیه مشترک بدست آمده را تقسیم بر مساحت خورشید می‌کنیم و حاصل را در ۱۰۰ ضرب می‌کنیم.

$$\text{درصد گرفت} = \frac{2 \left[\frac{2 \cdot O_1}{360} \times \pi r_{\odot}^2 - \frac{r_{\odot}^2 \cdot \sin(O_1)}{2} \right]}{\pi r_{\odot}^2} \times 100 = \frac{2 \left[\frac{2 \cdot O_1}{360} \times \pi - \frac{\sin(O_1)}{2} \right]}{\pi} \times 100 = 39.1\%$$



محاسبات سوال ۸ مسئله‌های کوتاه:

$$\frac{2 \left(\frac{2 \cdot 60}{360} \cdot \pi - \frac{\sin(60)}{2} \right)}{\pi} \cdot 100 = 39.1002219$$

پایان

موفق باشید